

И. А. Артасов

# История России

# 6

Контрольные  
работы



ПРОСВЕЩЕНИЕ  
ИЗДАТЕЛЬСТВО



*И. А. Артасов*

# *История России*

*Контрольные  
работы*

## *6 класс*

Учебное пособие  
для общеобразовательных  
организаций

Москва  
«Просвещение»  
2016

УДК 373.167.1:94(47)  
ББК 63.3(2)я72  
А86



51a907e-03a2-11e5-a40c-0050568c7d18

6+



Разработано в соответствии с требованиями Концепции нового УМК по отечественной истории и Историко-культурного стандарта.

**Артасов И.А.**

**А86** История России. Контрольные работы. 6 класс : учеб. пособие для общеобразоват. организаций / И.А. Артасов. — М. : Просвещение, 2016. — 80 с. : ил., карт. — ISBN 978-5-09-038418-6.

Пособие является составной частью учебно-методического комплекса по истории России для 6 класса и предназначено для проверки результатов обучения по курсу истории 6 класса в соответствии с требованиями Федерального государственного образовательного стандарта основного общего образования и Историко-культурного стандарта. В пособие включены проверочные работы в форме тестовых заданий, аналогичные заданиям ОГЭ, и работы в форме вопросов.

УДК 373.167.1:94(47)  
ББК 63.3(2)я72

ISBN 978-5-09-038418-6

© Издательство «Просвещение», 2016  
© Художественное оформление.  
Издательство «Просвещение», 2016  
Все права защищены

## КАК РАБОТАТЬ С ТЕТРАДЬЮ

Тетрадь контрольных работ является составной частью единого комплекса по истории России для 6 класса. С её помощью вы сможете проверить свои знания и умения по всем темам курса 6 класса.

Тетрадь включает 10 проверочных работ (по 5 темам) и 2 итоговые. Все работы представлены в двух вариантах, отличающихся друг от друга по форме заданий. Прежде чем начать выполнение работы, внимательно прочитайте правила её оформления.

Проверочная работа по каждой теме состоит из двух частей: Проверочная работа №1 и Проверочная работа №2.

**Проверочная работа №1** содержит 14–15 заданий с кратким ответом.

В Проверочной работе №1 представлены следующие разновидности заданий с кратким ответом:

- задания на выбор и запись одного или нескольких правильных ответов из предложенного перечня ответов;
- задания на определение последовательности расположения элементов;
- задания на установление соответствия элементов, данных в нескольких рядах (столбцах таблицы);
- задания на определение по указанным признакам и запись в виде слова (словосочетания) термина, названия, имени, века, года и т.п.

В некоторых заданиях Проверочной работы №1 используются текстовые исторические источники, исторические карты, иллюстративный материал, схемы.

Ответ к заданиям Проверочной работы №1 сначала записывается в специальном поле рядом с заданием или в самом тексте задания, а затем (после выполнения всей работы) переносится в специальное поле для ответов в конце проверочной работы.

Установите соответствие между веками и событиями.

1	<input type="text"/>
2	<input type="text"/>
3	<input type="text"/>

ВЕКА

- 1) XI в.
- 2) XII в.
- 3) XIII в.

СОБЫТИЯ

- А) Ледовое побоище
- Б) начало политической раздробленности
- В) набег Тохтамыша
- Г) правление Ярослава Мудрого

**Проверочная работа №2** состоит из заданий, требующих развёрнутого ответа. Ответ записывается на специально отведённых строках, расположенных под заданием.

При оценивании заданий с развёрнутым ответом учитывается соответствие ответа требованию задания, опора на исторические факты при формулировании ответа, отсутствие (наличие) фактических ошибок в ответе.

Советуем выполнять задания в том порядке, в котором они даны. Для экономии времени пропускайте задание, которое не удаётся выполнить сразу, и переходите к следующему. Если после выполнения всей работы у вас останется время, вы сможете вернуться к пропущенным заданиям.

В конце тетради предлагаются творческие задания (написание исторического сочинения с использованием опорных слов). При выполнении этих заданий вы сможете проявить свои творческие способности.

**Желаем успеха!**

## ПРОВЕРОЧНАЯ РАБОТА №1

### ВАРИАНТ 1

**1** К какой языковой семье относится тюркская языковая группа?

- 1) к индоевропейской
- 2) к урало-самодийской
- 3) к алтайской
- 4) к кавказской

① ② ③ ④

**2** Установите соответствие между процессами и тысячелетиями.

#### ПРОЦЕССЫ

- 1) окончание ледникового периода, установление климата, близкого к современному
- 2) зарождение земледелия на юге нашей страны
- 3) окончательное формирование человека современного типа

#### ТЫСЯЧЕЛЕТИЯ

- А) 40 тыс. лет назад
- Б) 25 тыс. лет назад
- В) 12–14 тыс. лет назад
- Г) 5–6 тыс. лет назад

①

②

③

Запишите буквы, соответствующие выбранным ответам.

**3** Укажите народ, предки которого относятся к западной ветви славян.

- 1) украинцы
- 2) словаки
- 3) болгары
- 4) сербы

① ② ③ ④

**4** Прочитайте отрывок из сочинения историка и укажите название народа, трижды пропущенное в тексте.

Нашествием \_\_\_\_\_ открывается ряд последовательных азиатских вторжений в Россию и Европу... Позднее, в V в., \_\_\_\_\_ продвинулись... на запад и основались в нынешней Венгрии, откуда доходили в своих набегах до Константинополя и до теперешней Франции. После их знаменитого вождя Аттилы во второй половине V в. сила \_\_\_\_\_ была сломлена междоусобиями в их среде и восстаниями подчинённых им европейских племён.

- 1) хазары
- 2) скифы
- 3) гунны
- 4) готы

① ② ③ ④

**5** Укажите имена богов восточных славян.

- 1) Зевс
- 2) Мокошь
- 3) Марс
- 4) Велес
- 5) Венера
- 6) Перун

1  2  3  4  5  6 Выберите несколько правильных ответов.

**6** Что из перечисленного стало одним из последствий Великого переселения народов?

- 1) образование Скифского царства
- 2) разгром Понтийского царства
- 3) падение Западной Римской империи
- 4) распад империи Александра Македонского

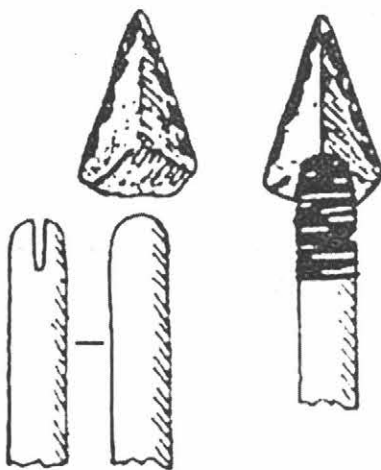
1  2  3  4

**7** Расположите исторические события в хронологической последовательности.

- А) распад Тюркского каганата
- Б) возникновение Волжской Булгарии
- В) возникновение Боспорского царства

1  2  3 Запишите получившуюся последовательность букв.

**8** Рассмотрите изображение и укажите период, когда появились орудия охоты, изображённые на рисунке.

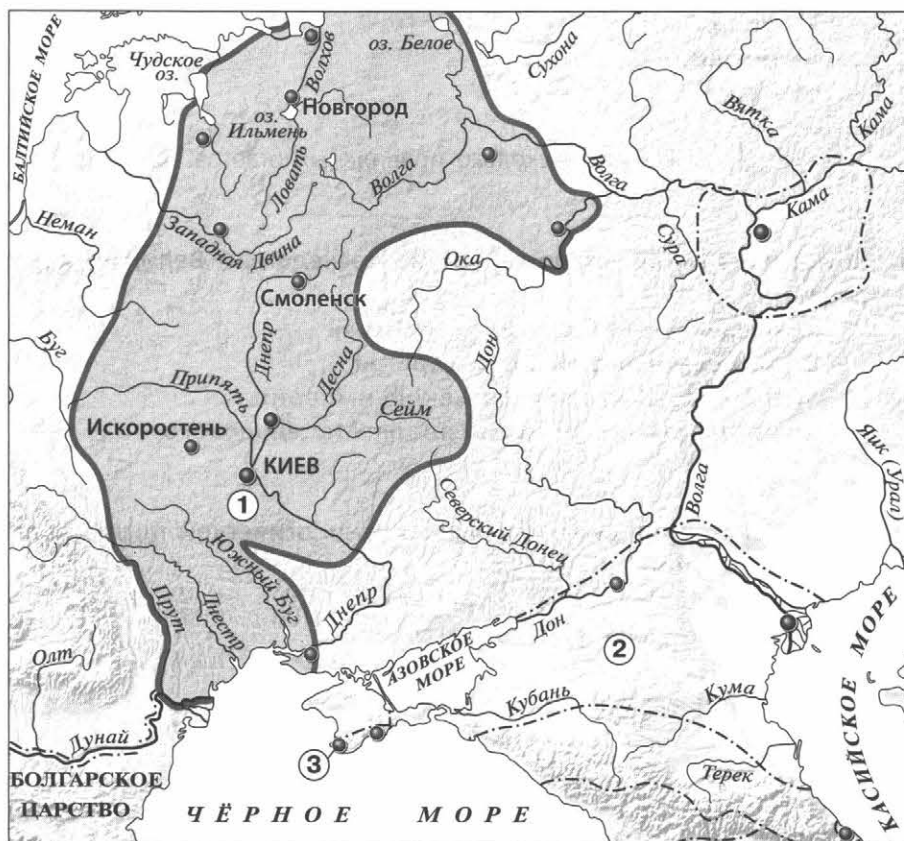


- 1) палеолит
- 2) мезолит
- 3) неолит
- 4) бронзовый век

1  2  3  4

# ГЛАВА I. НАРОДЫ И ГОСУДАРСТВА НА ТЕРРИТОРИИ НАШЕЙ СТРАНЫ В ДРЕВНОСТИ

Рассмотрите карту «Восточные славяне и их соседи в IV–IX вв.» и выполните задания 9–11.



**9** Укажите название восточнославянского племенного союза, территория расселения которого обозначена на карте цифрой «1».

- 1) ильменские словене
- 2) поляне
- 3) кривичи
- 4) вятичи

1 2 3 4

**10** Укажите название государства, образовавшегося в VII в., территория которого обозначена на карте цифрой «2».

Ответ: \_\_\_\_\_.

**11** Укажите название города, основанного древними греками, который обозначен на карте цифрой «3».

Ответ: \_\_\_\_\_.

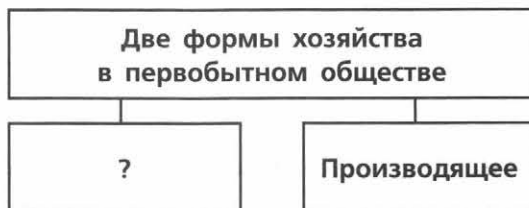
**12** Впишите пропущенное слово.

Соседская община у восточных славян называлась \_\_\_\_\_.

**13** Прочитайте отрывок из сочинения историка и впишите пропущенное слово.

Волхвы исполняли различные обряды, проводили религиозные церемонии в так называемых капищах, где стояли \_\_\_\_\_, или кумиры, — скульптурные изображения славянских богов. Наряду с вождями, а позднее князьями волхвы руководили жизнью и племён, и союзов племён, и молодого государства.

**14** Укажите слово, пропущенное в схеме.



Ответ: \_\_\_\_\_.

### ЗАПОЛНИТЕ ТАБЛИЦУ ОТВЕТОВ

Задание	1	2	3	4	5	6	7	8	9

Задание 10 \_\_\_\_\_

Задание 11 \_\_\_\_\_

Задание 12 \_\_\_\_\_

Задание 13 \_\_\_\_\_

Задание 14 \_\_\_\_\_





## ВАРИАНТ 2

**1** К какой языковой семье относится финно-угорская языковая группа?

- 1) к индоевропейской
- 2) к урало-самодийской
- 3) к алтайской
- 4) к кавказской

1 2 3 4

**2** Установите соответствие между события (процессами, явлениями) и веками.

СОБЫТИЯ (ПРОЦЕССЫ, ЯВЛЕНИЯ)

- 1) начало Великого переселения народов
- 2) образование Боспорского царства
- 3) образование Хазарского каганата

ВЕКА

- А) V в. до н.э.
- Б) IV в.
- В) VII в.
- Г) IX в.

1

2

3

Запишите буквы, соответствующие выбранным ответам.

**3** Укажите народ, предки которого относятся к южной ветви славян.

- 1) белорусы
- 2) поляки
- 3) чехи
- 4) болгары

1 2 3 4

**4** Прочитайте отрывок из сочинения историка и укажите пропущенное в тексте имя языческого бога.

С появлением у славян князей, воевод и дружин, в условиях военных походов на первый план вышел бог молнии и грома — непобедимый \_\_\_\_\_. Со временем он стал главным божеством нарождавшегося государства и слился с более ранними богами.

- 1) Стрибог
- 2) Велес
- 3) Перун
- 4) Ярило

1 2 3 4

**5** Укажите занятия восточных славян.

- 1) скотоводство
- 2) бортничество
- 3) охота
- 4) картофелеводство
- 5) выращивание подсолнечника
- 6) выращивание маслин

1 2 3 4 5 6

Выберите несколько правильных ответов.

**6** Что из перечисленного стало одним из последствий окончания ледникового периода?

- 1) окончательное формирование человека современного типа
- 2) появление загонной охоты
- 3) появление составных орудий труда
- 4) появление разделения труда между мужчинами и женщинами

1 2 3 4

**7** Расположите исторические события (процессы) в хронологической последовательности.


- А) основание первых городов-государств в Северном Причерноморье
- Б) окончание ледникового периода, установление климата, близкого к современному
- В) выделение из индоевропейских племён балтославянских племён

1 2 3

Запишите получившуюся последовательность букв.

○ ○ ○

**8** Рассмотрите изображение и укажите, к какому историческому периоду оно относится.

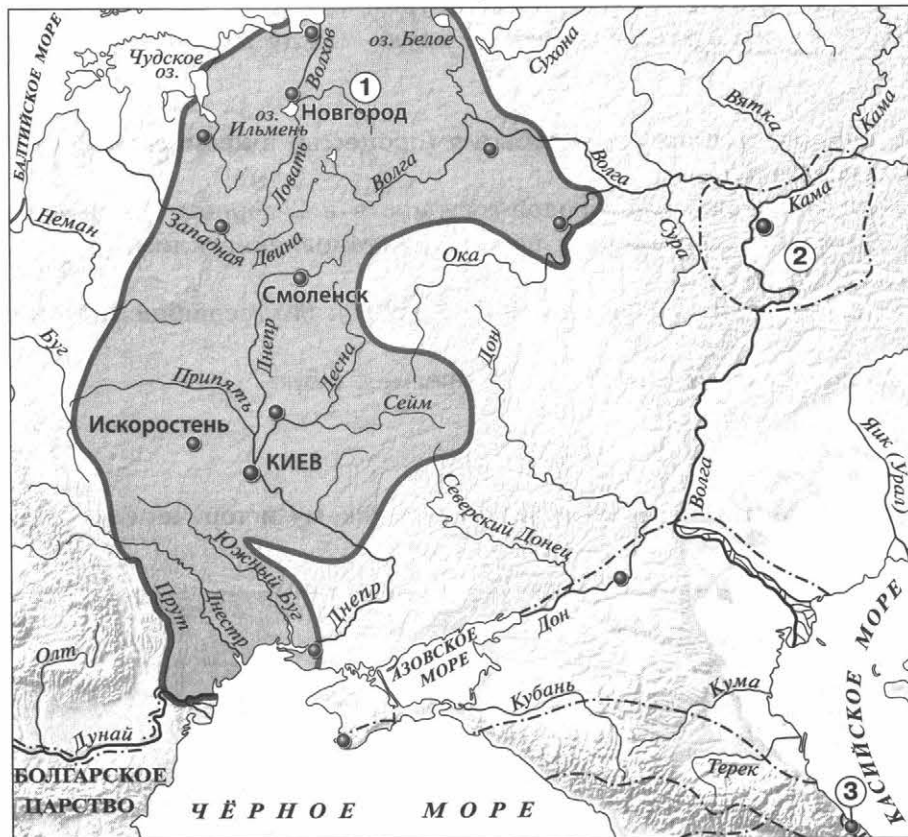


- 1) палеолит
- 2) мезолит
- 3) неолит
- 4) бронзовый век

1 2 3 4

# ГЛАВА I. НАРОДЫ И ГОСУДАРСТВА НА ТЕРРИТОРИИ НАШЕЙ СТРАНЫ В ДРЕВНОСТИ

Рассмотрите карту «Восточные славяне и их соседи в IV–IX вв.» и выполните задания 9–11.



9

Укажите название восточнославянского племенного союза, территория расселения которого обозначена на карте цифрой «1».

- 1) древляне
- 2) поляне
- 3) ильменские словене
- 4) радимичи

1 2 3 4

10

Укажите название государства, образовавшегося в IX в., территория которого обозначена на карте цифрой «2».

Ответ: \_\_\_\_\_.

11

Укажите название города, обозначенного на карте цифрой «3».

Ответ: \_\_\_\_\_.

**12** Впишите пропущенное слово.

Способ обработки земли, при котором ежегодно половина земли остаётся под паром, называется \_\_\_\_\_.

**13** Прочитайте отрывок из сочинения историка и впишите пропущенное слово.

С распадением родовых связей у восточных славян родичи перестали чувствовать своё взаимное родство и в случае нужды соединялись для общих дел уже не по родству, а по соседству. На общий совет, который назывался \_\_\_\_\_, сходились домохозяева известной округи, и родные друг другу, и неродные одинаково. Соединённые одним каким-нибудь общим интересом, они составляли общину и избирали для ведения общих дел выборных старейшин.

**14** Укажите слово, пропущенное в схеме.



Ответ: \_\_\_\_\_.

**ЗАПОЛНИТЕ ТАБЛИЦУ ОТВЕТОВ**

Задание	1	2	3	4	5	6	7	8	9

Задание 10 \_\_\_\_\_

Задание 11 \_\_\_\_\_

Задание 12 \_\_\_\_\_

Задание 13 \_\_\_\_\_

Задание 14 \_\_\_\_\_



**ПРОВЕРОЧНАЯ РАБОТА №2****ВАРИАНТ 1**

**1** Назовите не менее трёх стоянок древнего человека на территории нашей страны.

- 1) \_\_\_\_\_  
2) \_\_\_\_\_  
3) \_\_\_\_\_

**2** Приведите не менее двух аргументов, подтверждающих, что окончание ледникового периода повлияло на занятия людей.

\_\_\_\_\_  
\_\_\_\_\_  
\_\_\_\_\_  
\_\_\_\_\_  
\_\_\_\_\_

**3** Прочитайте отрывок из сочинения историка и выполните задания.

Едва отделившись от германского мира, ещё будучи тесно связанными с \_\_\_\_\_, отделение от которых произошло примерно в V в. до н. э., предки славян вступили в жестокое противоборство с пришельцами из глубин Азии...

Периодически из глубин Азии, прорываясь через широкий проход между южными отрогами Уральских гор и Каспийским морем, проникали в Восточную Европу кочевые орды, и первыми на их пути вставали восточные славяне. Это нескончаемое противоборство уносило тысячи жизней, отвлекало людей от мирного труда, замедляло общее развитие Восточной Европы, которая вставала на пути кочевников и защищала тем самым Запад.

■ Впишите собирательное название племён, пропущенное в тексте.

■ В чём, по мнению автора, состояли негативные последствия борьбы с кочевниками для восточных славян? Укажите любые два последствия.

\_\_\_\_\_  
\_\_\_\_\_

■ Укажите названия двух любых народов, которые имеет в виду автор данного отрывка, когда пишет о «кочевых ордах».

**4** Сравните период становления первобытного общества и период его распада по линиям, указанным в таблице. На основании сравнения сделайте вывод.

Линии сравнения	Период становления первобытного общества	Период распада первобытного общества
Существование социального неравенства		
Формы общины		
Существование союзов племён		

Вывод: \_\_\_\_\_

\_\_\_\_\_

ОТМЕТКА



## ВАРИАНТ 2

**1** Назовите три события, произошедшие в VII в.

- 1) \_\_\_\_\_
- 2) \_\_\_\_\_
- 3) \_\_\_\_\_

**2** Приведите не менее двух аргументов, подтверждающих, что наступление ледникового периода повлияло на занятия людей.

\_\_\_\_\_

\_\_\_\_\_

\_\_\_\_\_

\_\_\_\_\_

\_\_\_\_\_

\_\_\_\_\_

\_\_\_\_\_

\_\_\_\_\_

**3** Прочитайте отрывок из сочинения историка и выполните задания.

Древние греческие и римские писатели сообщают нам о южной степной России ряд известий...

До нашей эры разные кочевые народы, приходившие из Азии, господствовали здесь один за другим, некогда киммеряне, потом при \_\_\_\_\_ скифы, позднее, во времена римского владычества, сарматы...

Некоторые народы, подолгу заживавшиеся в припонтйских степях, например скифы, входили через здешние колонии в довольно тесное соприкосновение с античной культурой. Вблизи греческих колоний появлялось смешанное эллино-скифское население. Скифские цари строили дворцы в греческих городах, скифская знать ездила в самую Грецию учиться...

■ Впишите имя древнегреческого историка, пропущенное в тексте.

■ Какие факты приводит автор для подтверждения влияния античной культуры на скифов? Укажите любые два факта.

\_\_\_\_\_

\_\_\_\_\_

\_\_\_\_\_

\_\_\_\_\_

■ На какие две группы в соответствии со своими основными занятиями делились скифские племена?

**4** Сравните подсечно-огневую и переложную системы земледелия по линиям, указанным в таблице. На основании сравнения сделайте вывод.

Линии сравнения	Подсечно-огневая система	Переложная система
Районы, в которых использовалась система		
Основные трудности, связанные с использованием данной системы		
Возможно ли использование системы без постоянных переходов на новые участки земли?		

Вывод: \_\_\_\_\_

\_\_\_\_\_

ОТМЕТКА





## ПРОВЕРОЧНАЯ РАБОТА №1

### ВАРИАНТ 1

**1** Укажите город, в котором принял крещение князь Владимир.

- 1) Киев
- 2) Херсонес
- 3) Константинополь
- 4) Новгород

① ② ③ ④

**2** Установите соответствие между событиями и годами.

#### СОБЫТИЯ

- 1) создание Правды Ярославичей
- 2) начало княжения Владимира Мономаха в Киеве
- 3) призвание варягов

#### ГОДЫ

- А) 862 г.
- Б) 980 г.
- В) 1072 г.
- Г) 1113 г.

①

②

③

Запишите буквы, соответствующие выбранным ответам.

**3** Прочитайте отрывок из летописи и укажите название народа, трижды пропущенное в тексте.

Сотворил мир Святополк с \_\_\_\_\_ и взял себе в жёны дочь Тугоркана... В тот же год пришёл Олег с \_\_\_\_\_ из Тмутаракани и подошёл к Чернигову, Владимир же затворился в городе. Олег же, подступив к городу, пожёг вокруг города и монастыри пожёг. Владимир же сотворил мир с Олегом и пошёл из города на стол отцовский в Переяславль, а Олег вошёл в город отца своего. \_\_\_\_\_ же стали воевать около Чернигова, а Олег не препятствовал им, ибо сам повелел им воевать.

① ② ③ ④

- 1) хазары
- 2) авары
- 3) половцы
- 4) печенеги

**4** Установите соответствие между событиями и участниками этих событий.

#### СОБЫТИЯ

- 1) первое столкновение Руси с Польшей
- 2) установление уроков и погостов
- 3) взятие города Итиль

#### УЧАСТНИКИ

- А) Ольга
- Б) Владимир Мономах
- В) Святослав Игоревич
- Г) Владимир Святославич

①

②

③

Запишите буквы, соответствующие выбранным ответам.

**5** Укажите памятник древнерусской литературы, автором которого является митрополит Иларион.

- 1) «Слово о законе и благодати»      3) «Житие Бориса и Глеба»  
2) «Поучение детям»                      4) «Повесть временных лет»

**6** Рассмотрите иллюстрацию и укажите, что из перечисленного изображено на иллюстрации.

- 1) фреска  
2) мозаика  
3) миниатюра  
4) икона



**7** Расположите исторические события в хронологической последовательности.

- А) месть княгини Ольги древлянам, сожжение их столицы  
Б) Крещение Руси  
В) заключение договора князя Игоря с Византией

1 2 3

Запишите получившуюся последовательность букв.

**8** Укажите реки, по которым проходил торговый путь «из варяг в греки».

- 1) Волга                                              3) Днепр                                              5) Нева  
2) Дунай                                              4) Висла                                              6) Волхов

1 2 3 4 5 6

Выберите несколько правильных ответов.

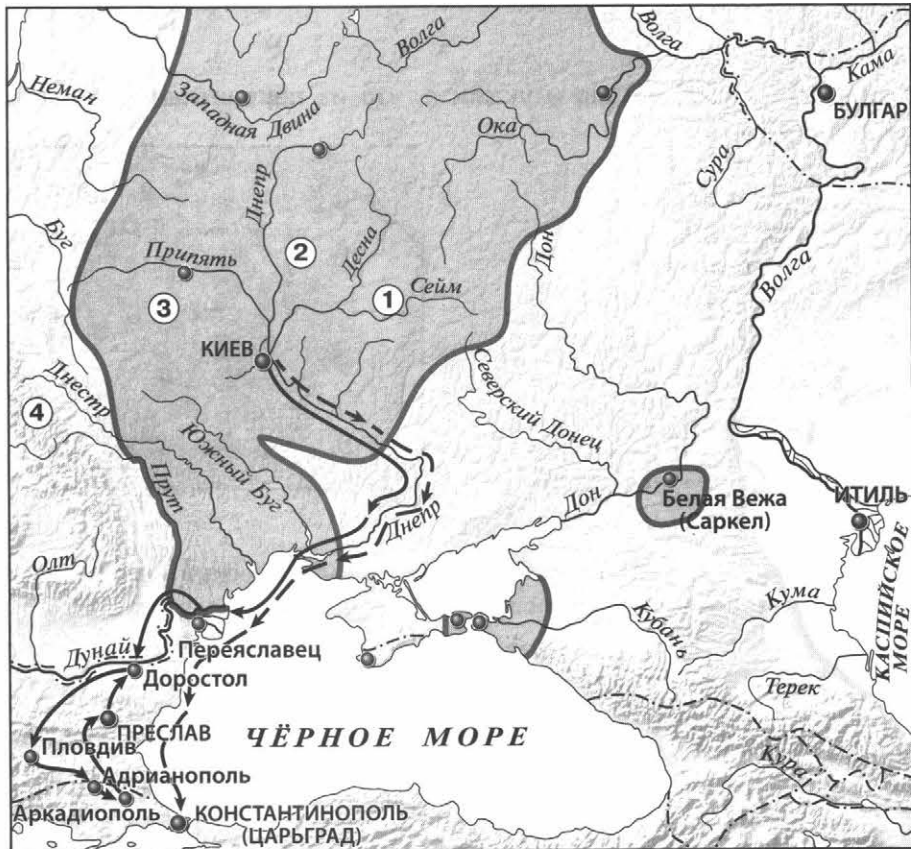
**9** Перед вами четыре предложения. Два из них являются положениями, которые требуется аргументировать. Другие два содержат факты, которые могут послужить аргументами для этих положений.

- 1) Княжна Анна была замужем за французским королём Генрихом I.  
2) В награду за помощь в подавлении мятежа киевский князь потребовал выдать за него замуж сестру императора Анну.  
3) Ярослав Мудрый стремился укрепить внешнеполитическое положение Руси с помощью династических браков.  
4) Владимир Святославич пытался укрепить свой авторитет с помощью династического брака.

Положение	Факт	Положение	Факт
<input type="text"/>	<input type="text"/>	<input type="text"/>	<input type="text"/>

Подберите для каждого положения соответствующий факт. Номера соответствующих предложений запишите в таблицу.

Рассмотрите карту «Русь в IX—X вв.» и выполните задания 10–12.



**10** Укажите год, когда был совершён поход, обозначенный на схеме пунктирными стрелками → .

① ② ③ ④

1) 882 г.  
2) 907 г.

3) 988 г.  
4) 1043 г.

**11** Укажите цифру, которой обозначена территория расселения восточнославянского племенного союза, поднявшего восстание в связи с требованием князя Игоря заплатить дополнительную дань.

① ② ③ ④

**12** Напишите имя князя, совершившего поход, обозначенный на схеме сплошными чёрными стрелками → .

Ответ: \_\_\_\_\_.

**13** Впишите пропущенное слово.

\_\_\_\_\_ — разорившийся общинник, попавший в долговую кабалу за ссуду, которую он обрабатывал на поле у человека, ссудившего его деньгами.

**14** Прочитайте отрывок из сочинения историка и впишите пропущенное имя князя.

\_\_\_\_\_ избавился от обоих братьев, подославши тайных убийц. Борис был умерщвлён на берегах Альты, близ Переяславля; Глеб — на Днепре, близ Смоленска. Такая же участь постигла и третьего брата — Святослава Древлянского, который, услышав об опасности, бежал в Венгрию, но был настигнут в Карпатских горах и убит.

**15** Запишите название, пропущенное в схеме.



Ответ: \_\_\_\_\_.

**ЗАПОЛНИТЕ ТАБЛИЦУ ОТВЕТОВ**

Задание	1	2	3	4	5	6	7	8	9	10	11

Задание 12 \_\_\_\_\_

Задание 13 \_\_\_\_\_

Задание 14 \_\_\_\_\_

Задание 15 \_\_\_\_\_



## ВАРИАНТ 2

**1** Первая часть свода законов Русская Правда была создана в:

- 1) IX в.
- 2) X в.
- 3) XI в.
- 4) XII в.

1 2 3 4

**2** Установите соответствие между событиями и годами.

## СОБЫТИЯ

- 1) Любечский съезд князей
- 2) смерть Мстислава Великого
- 3) применение византийцами греческого огня против русских кораблей

## ГОДЫ

- А) 911 г.
- Б) 941 г.
- В) 1097 г.
- Г) 1132 г.

1  
2  
3

Запишите буквы, соответствующие выбранным ответам.

**3** Укажите князя, имя которого дважды пропущено в данном отрывке.

После смерти нелюбимого князя, прославившегося алчностью и покровительством ростовщикам, киевляне посылают звать на великокняжеский престол \_\_\_\_\_, но он, не желая нарушать раз признанные права Святославичей, отказывается от великого княжения. Однако киевляне отправляют к нему новое посольство с тем же предложением, угрожая возмущением в случае его упорства; тогда \_\_\_\_\_ вынужден был согласиться и принять Киев. Так воля граждан нарушила права старшинства, передав их в руки достойнейшему, помимо старейшего.

1 2 3 4

- 1) Владимир Святой
- 2) Ярослав Мудрый
- 3) Изяслав Ярославич
- 4) Владимир Мономах

**4** Установите соответствие между событиями и участниками этих событий.

## СОБЫТИЯ

- 1) битва на р. Альте в 1068 г.
- 2) объединение Киева и Новгорода под единой княжеской властью, образование Древнерусского государства
- 3) захват власти в Киеве сразу после смерти Владимира Святославича

## УЧАСТНИКИ

- А) Олег Вещий
- Б) Святополк Окаянный
- В) Изяслав Ярославич
- Г) Святослав Игоревич

1  
2  
3

Запишите буквы, соответствующие выбранным ответам.

**5** Укажите памятник древнерусской литературы, автором которого является Владимир Мономах.

1 2 3 4

- 1) «Житие Бориса и Глеба»
- 2) «Поучение детям»
- 3) «Повесть временных лет»
- 4) «Слово о законе и благодати»

**6** Рассмотрите иллюстрацию и укажите, что из перечисленного изображено на иллюстрации.

1 2 3 4

- 1) фреска
- 2) мозаика
- 3) миниатюра
- 4) зернь



**7** Расположите исторические события в хронологической последовательности.

- А) первое столкновение Руси с Польшей
- Б) гибель князя Изяслава Ярославича
- В) разгром Хазарского каганата

1 2 3

Запишите получившуюся последовательность букв.

**8** Что из перечисленного относится к деятельности княгини Ольги?

- 1) введение уроков и погостов
- 2) Крещение Руси
- 3) организация походов против половцев
- 4) принятие христианства
- 5) основание Новгорода
- 6) месть древлянам

1 2 3 4 5 6

Выберите несколько правильных ответов.

**9** Перед вами четыре предложения. Два из них являются положениями, которые требуется аргументировать. Другие два содержат факты, которые могут послужить аргументами для этих положений.

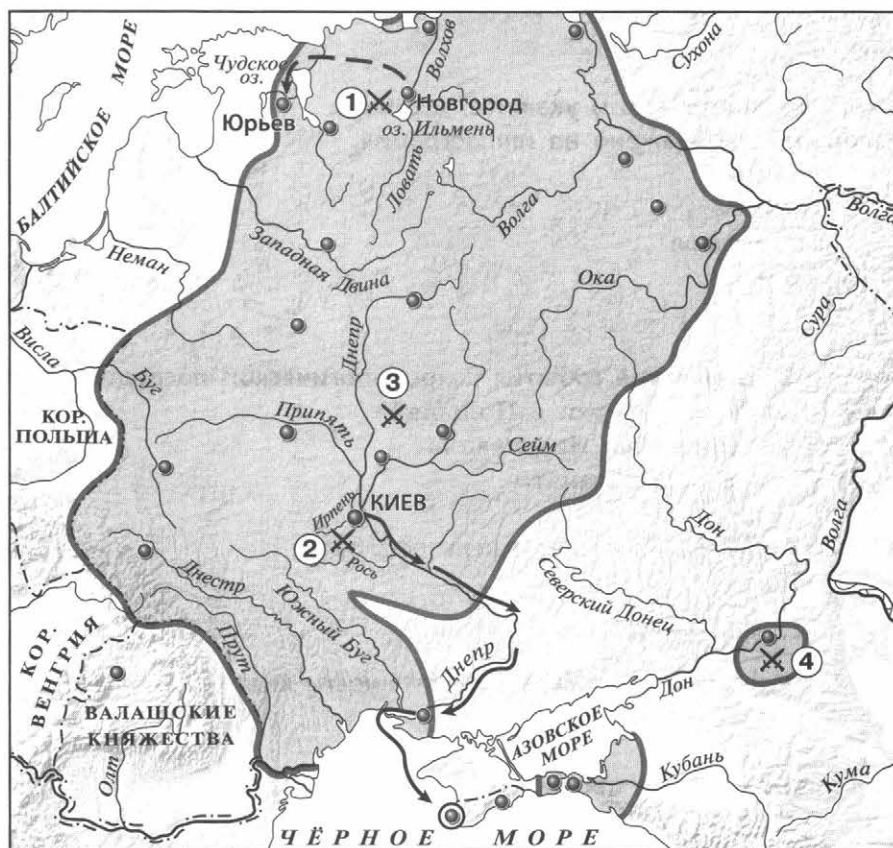
- 1) При строительстве Софийского собора в Киеве использовался византийский опыт.
- 2) Софийский собор в Киеве имел 13 куполов.
- 3) Софийский собор в Киеве построен из плинфы.
- 4) Киевский Софийский собор имел черты, которые отличали его от византийских храмов.

Положение	Факт	Положение	Факт
<input type="text"/>	<input type="text"/>	<input type="text"/>	<input type="text"/>

Подберите для каждого положения соответствующий факт.

Номера соответствующих предложений запишите в таблицу.

Рассмотрите карту «Русь в IX—X вв.» и выполните задания 10–12.



**10** Укажите год, когда был совершён поход, обозначенный на схеме пунктирными стрелками  $\dashrightarrow$ .

- 1) 882 г.
- 2) 907 г.
- 3) 970 г.
- 4) 1030 г.

1 2 3 4

**11** Укажите цифру, которой обозначено место разгрома печенегов Ярославом Мудрым в 1036 г.

1 2 3 4

**12** Напишите имя князя, совершившего поход, обозначенный на схеме сплошными чёрными стрелками  $\rightarrow$ .

Ответ: \_\_\_\_\_.

**13** Впишите пропущенное слово.

\_\_\_\_\_ — глава крупной церковной области — части митрополии.

**14** Прочитайте отрывок из сочинения историка и впишите пропущенное название.

\_\_\_\_\_ теория включает в себя два общеизвестных пункта:

1) варяги фактически создали на славянских землях государство, что местному населению было не под силу;

2) варяги оказали огромное культурное влияние на восточных славян.

На чём основывается вывод, что «Русь» — это название одного из скандинавских народов, который пришёл вместе с Рюриком и объединил разрозненные земли в государство Русское.

**15** Запишите имя, пропущенное в схеме.



Ответ: \_\_\_\_\_.

**ЗАПОЛНИТЕ ТАБЛИЦУ ОТВЕТОВ**

Задание	1	2	3	4	5	6	7	8	9	10	11

Задание 12 \_\_\_\_\_

Задание 13 \_\_\_\_\_

Задание 14 \_\_\_\_\_

Задание 15 \_\_\_\_\_





**ПРОВЕРОЧНАЯ РАБОТА №2****ВАРИАНТ 1**

**1** Укажите два результата деятельности Владимира Мономаха во время его княжения в Киеве.

1) \_\_\_\_\_

2) \_\_\_\_\_

**2** Существует точка зрения, что время правления Ярослава Мудрого является расцветом Древнерусского государства. Приведите не менее двух аргументов, подтверждающих эту точку зрения.

\_\_\_\_\_

\_\_\_\_\_

\_\_\_\_\_

\_\_\_\_\_

\_\_\_\_\_

**3** Прочитайте отрывок из сочинения историка и выполните задания.

Дружинники жили на княжеском дворе, пировали вместе с князем, участвовали в походах, делили дань и военную добычу. Отношения князя и дружинников были далеки от отношений подданства. Князь советовался с дружиной по всем делам. Игорь, получив от Византии предложение взять дань и отказаться от похода, «созва дружину и нача думати»... Владимир «думал» с дружиной «о строи земленем, и о ратех, и о уставе земленем», т.е. о делах государственных и военных. Князь \_\_\_\_\_, когда мать Ольга убеждала его принять христианство, отказывался, ссылаясь на то, что над ним будет смеяться дружина.

■ Впишите имя князя, пропущенное в тексте.

■ Какие факты приводит автор для доказательства того, что «князь советовался с дружиной по всем делам»? Укажите два факта.

\_\_\_\_\_

\_\_\_\_\_

\_\_\_\_\_

■ Назовите два слоя, на которые делилась княжеская дружина в Древнерусском государстве. Укажите одно название воинов, входивших в один (любой) из этих слоёв.

**4** Сравните язычество и христианство по линиям, указанным в таблице. На основании сравнения сделайте вывод.

Линии сравнения	Язычество	Христианство
Влияние на развитие письменности		
Возможность человеческих жертвоприношений		
Отношение к убийству		
Отношение к мести		

Вывод: \_\_\_\_\_

\_\_\_\_\_

\_\_\_\_\_



**ВАРИАНТ 2****1**

Укажите два последствия Любечского съезда князей.

- 1) \_\_\_\_\_  
\_\_\_\_\_
- 2) \_\_\_\_\_  
\_\_\_\_\_

**2**

Существует точка зрения, что, несмотря на описываемое в летописи общение князя Владимира с представителями разных религий, его выбор в пользу христианства по византийскому образцу был предопределён предшествующим развитием Древнерусского государства. Приведите два аргумента в подтверждение этой точки зрения.

\_\_\_\_\_

\_\_\_\_\_

\_\_\_\_\_

\_\_\_\_\_

\_\_\_\_\_

**3**

Прочитайте отрывок из сочинения историка и выполните задания.

В источниках содержится немало упоминаний о древнерусской общине. Это была, видимо, уже не родовая община; она обладала определённой территорией (так, согласно Русской Правде, община отвечает за убитого неизвестными человека, найденного на её земле). В ней выделились отдельные экономически самостоятельные семьи: Русская Правда подробно разбирает случаи, когда община помогает попавшему в беду своему члену и когда он должен платить сам, «а людем не надобе». Отметим, что Русская Правда в основном регламентировала отношения, возникающие при столкновении древнерусской общины и княжеского (боярского) хозяйства.

■ Укажите название общины, о которой идёт речь.

\_\_\_\_\_

■ Какие положения Русской Правды использует автор для доказательства своего вывода («это уже не родовая община»)? Приведите два положения.

\_\_\_\_\_

\_\_\_\_\_

\_\_\_\_\_

\_\_\_\_\_

■ Укажите любые три категории зависимого населения в Древнерусском государстве, названные в Русской Правде.

---



---



---

**4** Сравните отношения Древнерусского государства со странами Европы и с кочевниками и странами Востока. На основании сравнения сделайте вывод.

Линии сравнения	Страны Европы	Кочевники и страны Востока
Торговые связи		
Заключение династических браков		
Военные столкновения		
Набеги на русские земли, разорение городов и сёл, угон в рабство жителей Руси		

Вывод: \_\_\_\_\_

---



---



## ПРОВЕРОЧНАЯ РАБОТА №1

### ВАРИАНТ 1

**1** Князь Андрей Боголюбский перенёс столицу Северо-Восточной Руси в город:

① ② ③ ④

- |             |            |
|-------------|------------|
| 1) Владимир | 3) Суздаль |
| 2) Ростов   | 4) Москву  |

**2** Установите соответствие между событиями и годами.

СОБЫТИЯ

- 1) начало правления Андрея Боголюбского в Ростово-Суздальском княжестве
- 2) первое упоминание Москвы в летописи
- 3) образование Галицко-Волынского княжества

ГОДЫ

- А) 1132 г.
- Б) 1147 г.
- В) 1157 г.
- Г) 1199 г.

①

②

③

Запишите буквы, соответствующие выбранным ответам.

**3** Прочитайте отрывок из сочинения историка и укажите дважды пропущенное в тексте название города.

Если половецкую опасность удавалось сдерживать, привлекая к обороне границ других русских князей, то справиться с северо-восточным соседом сил уже не было. Сначала Юрий Долгорукий отобрал у \_\_\_\_\_ Переяславское княжество, потом сам утвердился в \_\_\_\_\_. Впервые Северо-Восток взял верх над Югом русских земель. Это указывало на возросшую мощь Ростово-Суздальской Руси и на то, что центр русской государственности постепенно перемещается на северо-восток.

① ② ③ ④

- |             |                       |
|-------------|-----------------------|
| 1) Киев     | 3) Чернигов           |
| 2) Новгород | 4) Владимир-Волынский |

**4** Установите соответствие между событиями (процессами) и участниками этих событий (процессов).

СОБЫТИЯ (ПРОЦЕССЫ)

- 1) поход в Польшу в 1205 г.
- 2) борьба за власть во Владимиро-Суздальском княжестве после смерти Андрея Боголюбского
- 3) оставление Новгорода в результате восстания новгородцев в 1136 г.

УЧАСТНИКИ

- А) Всеволод Большое Гнездо
- Б) Юрий Долгорукий
- В) Всеволод Мстиславич
- Г) Роман Мстиславич

①

②

③

Запишите буквы, соответствующие выбранным ответам.

5

Что из перечисленного стало одним из последствий распада Руси на самостоятельные земли?

- 1) утрата религиозного единства русских земель
- 2) международная изоляция русских княжеств и земель
- 3) упадок культуры в русских княжествах и землях
- 4) ослабление обороноспособности русских земель

1 2 3 4

6

Какие из перечисленных городов находились на территории Владимиро-Суздальского княжества во второй половине XII в.?


- 1) Ладога
- 2) Ростов
- 3) Чернигов
- 4) Изборск
- 5) Ярославль

1 2 3 4 5

Выберите несколько правильных ответов.

7

Рассмотрите изображение и укажите город, где находится данный памятник архитектуры.



1 2 3 4

- 1) Владимир
- 2) Киев
- 3) Новгород
- 4) Москва

8

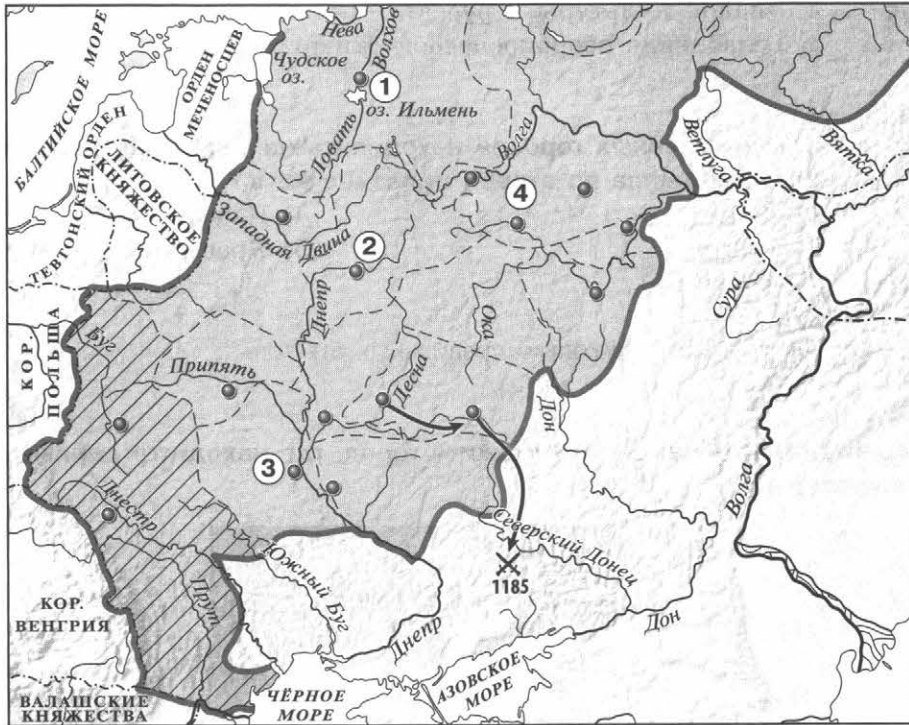
Прочитайте текст, в котором каждое предложение пронумеровано. Данный текст содержит две ошибки. Фрагменты текста, в которых, возможно, сделаны ошибки, подчеркнуты и выделены жирным шрифтом.

- (1) Главой новгородской церкви был **владыка**. (2) Он назначался посадником и только потом утверждался митрополитом. (3) Глава новгородской церкви участвовал в реальном управлении делами всей новгородской земли. (4) Одной из его задач был контроль над эталонами мер и весов. (5) Вместе с посадником и тысяцким он участвовал в руководстве внешней политикой. (6) Глава новгородской церкви переназначался каждые пять лет.

1 2 3 4 5 6

Укажите номера предложений, в которых есть фрагменты, содержащие ошибки.

Рассмотрите карту «Русь в XII–XIII вв.» и выполните задания 9–11.



**9**

Укажите территорию, выделенную на карте штриховкой.

- 1) Новгородская земля
- 2) Владимиро-Суздальское княжество
- 3) Черниговское княжество
- 4) Галицко-Волынское княжество

1 2 3 4

**10**

Укажите цифру, которой обозначен город, взятый в 1169 г. войском Андрея Боголюбского.

1 2 3 4

**11**

Напишите имя князя, осуществившего поход, обозначенный на схеме стрелками.

Ответ: \_\_\_\_\_.

**12** Запишите термин, о котором идёт речь.

Второе по значению лицо в системе управления Новгородом. Осуществлял контроль налоговой системы, ведал торговым судом, возглавлял в походах городское ополчение.

Ответ: \_\_\_\_\_.

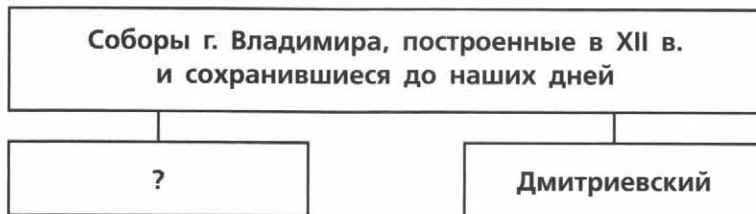
**13** Прочитайте отрывок из сочинения историка и укажите город, об архитектуре которого идёт речь.

В отличие от Владимира, местные церкви внешне суровы и сдержанно величавы, как сама северная природа. Они лишены киевской изысканности. Местный деловой люд ценил демократическую простоту, строгость, внушительную силу.

Здесь возникает новый тип храма — небольшой по величине, призматической формы, близкой к кубу, с одним куполом. Строили его из местного известняка, который плохо поддавался обработке, поэтому фасады очень просты, без декора.

Ответ: \_\_\_\_\_.

**14** Укажите название, пропущенное в схеме.



Ответ: \_\_\_\_\_.

**ЗАПОЛНИТЕ ТАБЛИЦУ ОТВЕТОВ**

Задание	1	2	3	4	5	6	7	8	9	10

Задание 11 \_\_\_\_\_

Задание 12 \_\_\_\_\_

Задание 13 \_\_\_\_\_

Задание 14 \_\_\_\_\_





## ВАРИАНТ 2

1

Что является характерной чертой Галицко-Волынского княжества?

- 1) отсутствие оживлённых торговых путей
- 2) развитое земледелие
- 3) республиканская форма правления
- 4) отсутствие борьбы между князьями и боярством

① ② ③ ④

2

Установите соответствие между событиями и годами.

СОБЫТИЯ

- 1) поход новгород-северского князя Игоря Святославича против половцев
- 2) захват Киева Романом Мстиславичем
- 3) смерть Мстислава Великого

ГОДЫ

- А) 1132 г.
- Б) 1157 г.
- В) 1185 г.
- Г) 1202 г.

①  
②  
③

Запишите буквы, соответствующие выбранным ответам.

3

Прочитайте отрывок из сочинения историка и укажите пропущенное название города.

Борьба с Суздальским князем была неравная; в руках его находилось могущественное средство: он прекратил подвоз хлеба из поволжских областей, и в \_\_\_\_\_ настала страшная дороговизна. Не далее как в следующем году граждане смирились, отослали от себя Романа Мстиславича, заключили мир с Андреем и приняли от него князя.

- 1) Киев
- 2) Новгород
- 3) Чернигов
- 4) Владимир-Волынский

① ② ③ ④

4

Установите соответствие между событиями (процессами) и участниками этих событий (процессов).

СОБЫТИЯ (ПРОЦЕССЫ)

- 1) борьба за власть во Владимиро-Суздальском княжестве во втором десятилетии XIII в.
- 2) образование Галицко-Волынского княжества
- 3) закладка первой деревянной крепости в Москве

УЧАСТНИКИ

- А) Юрий Всеволодович
- Б) Андрей Боголюбский
- В) Роман Мстиславич
- Г) Юрий Долгорукий

①  
②  
③

Запишите буквы, соответствующие выбранным ответам.

**5** Что из перечисленного было одной из причин распада Руси на самостоятельные земли?

- 1) активизация торговли по пути «из варяг в греки»
- 2) несовершенный порядок престолонаследия
- 3) создание свода законов Русская Правда
- 4) усиление внешней опасности со стороны половцев

1 2 3 4

**6** Какие из перечисленных городов находились на территории Новгородской земли во второй половине XII в.?

- 1) Ладога
- 2) Ростов
- 3) Муром
- 4) Псков
- 5) Ярославль


1 2 3 4 5

Выберите несколько правильных ответов.

**7** Рассмотрите изображение и укажите город, где находится данный памятник архитектуры.

- 1) Чернигов
- 2) Владимир
- 3) Новгород
- 4) Москва

1 2 3 4



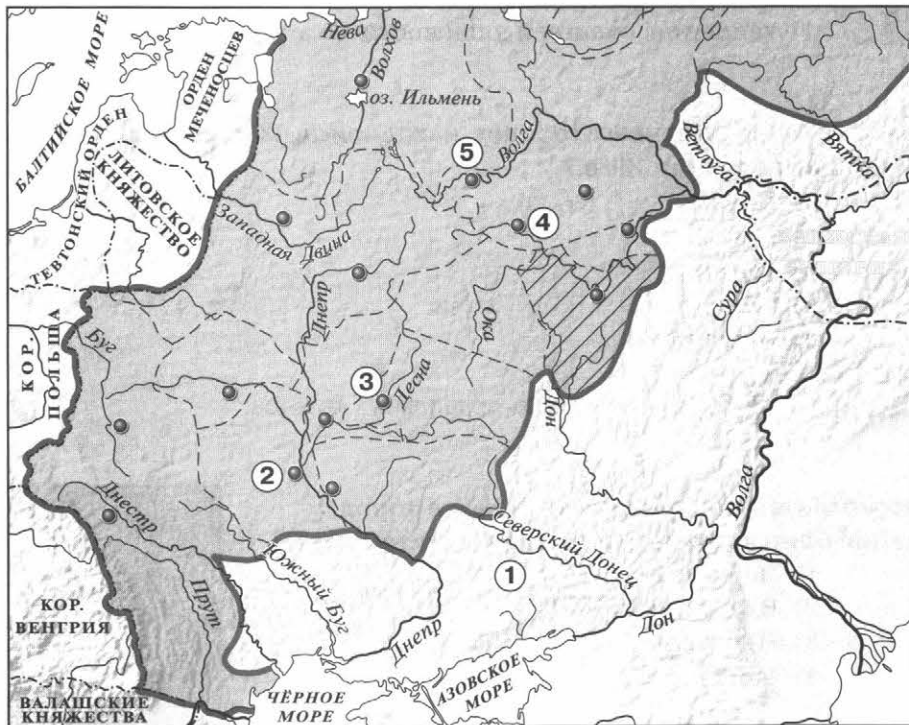
**8** Прочитайте текст, в котором каждое предложение пронумеровано. Данный текст содержит две ошибки. Фрагменты текста, в которых, возможно, сделаны ошибки, подчеркнуты и выделены жирным шрифтом.

(1) Андрей Боголюбский был сыном Юрия Долгорукого. (2) Время Андрея Боголюбского — время весьма активной политики владими́ро-суздальского князя. (3) Он ведёт успешную войну с Хазарским каганатом. (4) В **1169 г.** войска Андрея под предводительством его сына Мстислава взяли Киев. (5) Город был сожжён, горожане частью уведены в плен, частью истреблены. (6) Подчинив себе Киев и получив официально титул великого князя киевского, Андрей, **как и его отец в 1055 г.**, не переехал туда.

1 2 3 4 5 6

Укажите номера предложений, в которых есть фрагменты, содержащие ошибки.

Рассмотрите карту «Русь в XII–XIII вв.» и выполните задания 9–11.



9

Укажите территорию, выделенную штриховкой на карте.

- 1) Новгородская земля
- 2) Владимиро-Суздальское княжество
- 3) Рязанское княжество
- 4) Полоцкое княжество

① ② ③ ④

10

Какой цифрой обозначен город, первое упоминание о котором относится к 1147 г.?

① ② ③ ④ ⑤

11

Укажите название кочевого народа, обитавшего на территории, обозначенной цифрой «1» в начале XII в.

Ответ: \_\_\_\_\_.

**12** Запишите термин, о котором идёт речь.

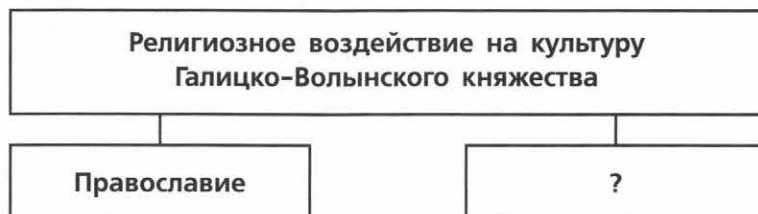
Владение младших членов княжеского рода.

Ответ: \_\_\_\_\_.

**13** Прочитайте отрывок из сочинения историка и впишите имя и прозвище, пропущенные в тексте.

\_\_\_\_\_ — предполагаемый автор «Моления» и «Слова», в древнерусскую эпоху считавшихся кладезем житейской мудрости. Годы жизни и обстоятельства биографии его неизвестны. Не исключено, что ему приписан обобщённый плод творчества нескольких авторов. По своему жанру «Моление» и «Слово» представляют афористически-поэтические сочинения. «Слово» — это гимн разуму и самоценности человеческой личности, свободной по отношению к авторитетам и в то же время зависимой от превратностей судьбы.

**14** Укажите слово, пропущенное в схеме.



Ответ: \_\_\_\_\_.

**ЗАПОЛНИТЕ ТАБЛИЦУ ОТВЕТОВ**

Задание	1	2	3	4	5	6	7	8	9	10

Задание 11 \_\_\_\_\_

Задание 12 \_\_\_\_\_

Задание 13 \_\_\_\_\_

Задание 14 \_\_\_\_\_

ОТМЕТКА



**ПРОВЕРОЧНАЯ РАБОТА №2****ВАРИАНТ 1**

- 1** Назовите произведение искусства, которое, согласно легенде, непосредственно связано с основанием резиденции князя Андрея Юрьевича — Боголюбово. Укажите любые два литературных произведения, которые были созданы на Руси в XII — первой половине XIII в.

Произведение искусства \_\_\_\_\_

Литературные произведения

1) \_\_\_\_\_

2) \_\_\_\_\_

- 2** Считается, что в Новгородской земле в XII в. утвердилась республиканская форма правления. Приведите два аргумента, подтверждающие это положение.

\_\_\_\_\_

\_\_\_\_\_

\_\_\_\_\_

\_\_\_\_\_

- 3** Прочитайте отрывок из сочинения историка и выполните задания.

...Однако ни отсутствие прочных экономических связей, ни племенная рознь не воспрепятствовали в IX в. объединению восточнославянских племенных союзов в единое государство и на протяжении почти трёх веков не приводили к его распаду. Причины перехода к раздробленности следует искать прежде всего в появлении и распространении землевладения не только княжеского, но и частного, возникновении боярских сёл. Основой экономической мощи господствующего класса становится теперь не дань, а эксплуатация зависимых людей внутри боярских вотчин. Этот процесс постепенного оседания дружины на землю заставлял и князя быть менее подвижным, стремиться укрепить своё собственное княжество, а не переходить на новый княжеский стол.

■ Укажите имя киевского князя, сына Владимира Мономаха, после смерти которого начался период, о котором идёт речь в отрывке.

\_\_\_\_\_

■ Какие причины и предпосылки наступления этого периода называет автор? Укажите три причины (предпосылки).

■ Укажите одну любую не названную в отрывке причину (предпосылку) начала периода, о котором идёт речь. Укажите два положительных последствия начала этого периода для русских земель.

**4**

**Сравните развитие культуры Руси до и после распада Древнерусского государства по линиям сравнения, указанным в таблице. На основании сравнения сделайте вывод.**

Линии сравнения	До раздробленности	После раздробленности
Глава Русской православной церкви и место, где находилась его резиденция		
Наличие единого языка для всей Руси		
Храмы, построенные в данный период (перечислить известные вам), с указанием места		
Распространение летописания (вспомните о городах, где создавались летописи)		

**Вывод:** \_\_\_\_\_

ОТМЕТКА



## ВАРИАНТ 2

**1** Укажите не менее трёх памятников архитектуры, построенных во Владимиро-Суздальской земле в годы княжения Андрея Боголюбского.

- 1) \_\_\_\_\_
- 2) \_\_\_\_\_
- 3) \_\_\_\_\_

**2** Приведите два аргумента в подтверждение точки зрения о том, что, несмотря на наступивший период раздробленности, в середине XII в. Киевское княжество сохраняло особое положение среди других русских княжеств.

---



---



---



---



---

**3** Прочитайте отрывок из сочинения историка и выполните задания.

Город был могущественнее князя. Последний княжил только в силу договора, ряда... Главными правительственными лицами... были: 1) посадник, которого немецкие писатели того времени называли бургомистром и которого сменяли почти так же часто, как и князя... Первое правительственное лицо города было обязано защищать льготы города; оно разделяло с князем судебную власть и право раздавать волости. Оно управляло городом, предводительствовало его войском, вело от его имени переговоры, утверждало грамоты своей печатью; 2) тысяцкий...

■ О каком городе идёт речь в данном отрывке?

---

■ Что можно сказать о положении князя на основании данного отрывка? Приведите две характеристики. Что можно сказать о положении посадника? Приведите одну характеристику.

---



---



---



---



---



---



---



---

■ Какой орган обладал верховной властью во второй половине XII в. в городе, о котором идёт речь в отрывке? Укажите не менее двух вопросов, которые решал этот орган.

---



---



---



---



---

**4**

Сравните развитие Древнерусского государства в начале X в. и в первой половине XII в. с точки зрения существования предпосылок его распада по линиям сравнения, указанным в таблице. На основании сравнения сделайте вывод.

Линии сравнения	Начало X в.	Первая половина XII в.
Господство натурального хозяйства		
Существование племенной обособленности		
Значение торгового пути «из варяг в греки»		
Существование и распространение боярского землевладения		

Вывод: \_\_\_\_\_

---



---



---

ОТМЕТКА





## ПРОВЕРОЧНАЯ РАБОТА №1

### ВАРИАНТ 1

**1** Укажите название представителя монгольского хана в завоёванных землях, контролировавшего местные власти.

1 2 3 4

1) темник

3) баскак

2) смерд

4) нойон

**2** Установите соответствие между событиями и годами.

СОБЫТИЯ

ГОДЫ

1) восстание в Твери против ордынцев

А) 1211 г.

2) начало завоевательных походов Чингисхана

Б) 1327 г.

3) разорение Москвы ханом Тохтамышем

В) 1380 г.

Г) 1382 г.

1  
2  
3

Запишите буквы, соответствующие выбранным ответам.

**3** Прочитайте отрывок из литературного произведения и укажите участника сражения, о котором идёт речь.

И вот наступил восьмой час дня, когда ветер южный потянул из-за спины нам, и воскликнул Волынец голосом громким: «Княже Владимир, наше время настало, и час удобный пришёл!» — и прибавил: «Братья моя, друзья, смелее: сила Святого Духа помогает нам!»

Соратники же друзья выскочили из дубравы зелёной, словно соколы испытанные сорвались с золотых колодок, бросились на бескрайние стада откормленные, на ту великую силу вражескую...

1 2 3 4

1) Ольгерд

3) Дмитрий Донской

2) Иван Калита

4) хан Батый

**4** Установите соответствие между событиями (процессами) и участниками этих событий (процессов).

СОБЫТИЯ (ПРОЦЕССЫ)

УЧАСТНИКИ

1) Грюнвальдская битва

А) Филипп Нянька

2) противостояние войску Батыя в период его нашествия на русские земли

Б) Витовт

3) основание города Вильно

В) Александр Пересвет

Г) Гедимин

1  
2  
3

Запишите буквы, соответствующие выбранным ответам.

**5** Что из перечисленного стало одним из последствий нашествия Батыя на Русь?

- 1) начало распада Руси на самостоятельные земли
- 2) необходимость выплачивать ордынский выход
- 3) насаждение ордынцами язычества на Руси
- 4) перенесение столицы Северо-Восточной Руси из Суздаля во Владимир

1 2 3 4

**6** В каком из перечисленных произведений сказано о подвиге Евпатия Коловрата?

- 1) «Житие Александра Невского»
- 2) «Повесть о разорении Рязани Батыем»
- 3) песня «О Щелкане Дудентьевиче»
- 4) песня «Об Авдотье Рязаночке»

1 2 3 4

**7** Рассмотрите изображение и укажите, какое суждение о данной фреске является верным.



- 1) На изображении представлена роспись купола одного из храмов города Владимира.
- 2) Представленная на изображении фреска была создана перед нашествием Батыя на Русь.
- 3) Автор фрески, представленной на изображении, приехал на Русь из Византии.
- 4) На фреске отсутствуют надписи.

1 2 3 4

**8** Какие из перечисленных государств подверглись монгольскому завоеванию до начала Батыева нашествия на Русь?

- 1) империя Цзинь
- 2) королевство Польша
- 3) Волжская Булгария
- 4) королевство Чехия
- 5) королевство Венгрия

1 2 3 4 5

Выберите несколько правильных ответов.

9

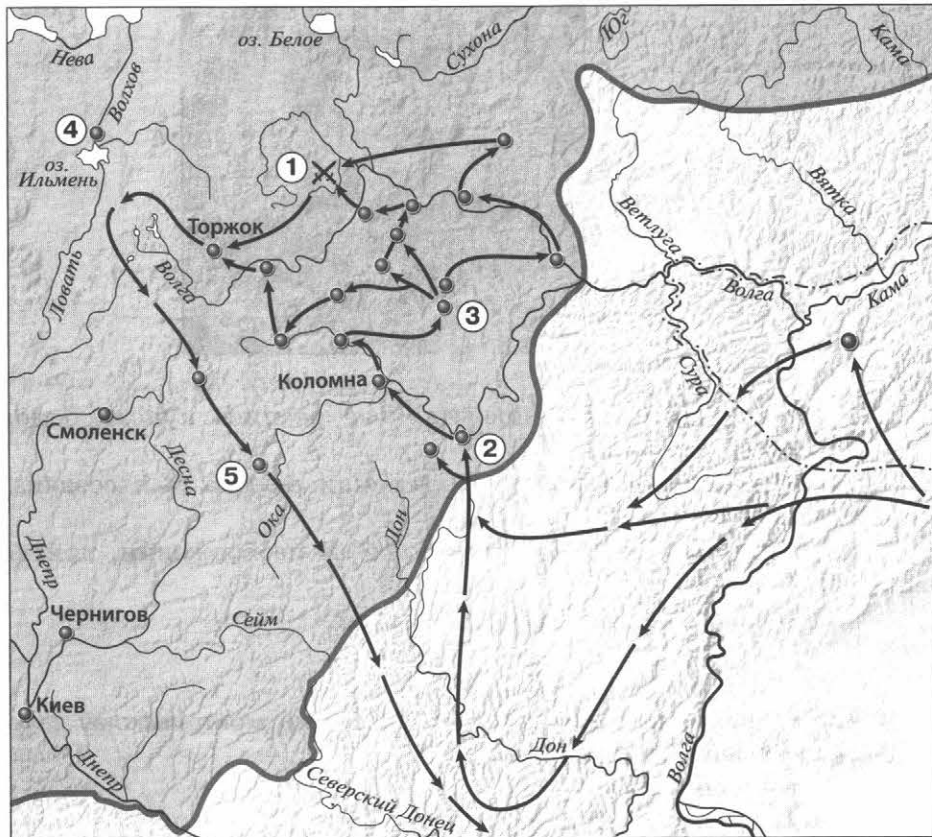
Прочитайте текст (каждое предложение пронумеровано), в котором нарушена последовательность предложений.

(1) Рыцарская конница скучилась, так как задние шеренги рыцарей подталкивали передние шеренги, которым негде было развернуться для боя. (2) И в самый её разгар, когда «свинья» полностью втянулась в бой, по сигналу Александра Невского по её флангам во всю мощь ударили полки левой и правой руки. (3) Атака оказалась успешной, рыцари прорвали оборонительные порядки русского «чела». (4) Однако, наткнувшись на обрывистый берег озера, малоподвижные, закованные в латы рыцари не могли развить свой успех. (5) Немецкие рыцари построили свои войска в форме клина («свиньи»). (6) В этой тесноте завязалась ожесточённая рукопашная схватка. (7) Выставив длинные копья, немцы атаковали центр («чело») боевого порядка русского войска.

1 2 3 4 5 6 7

Запишите правильную последовательность предложений.

Рассмотрите карту «Нашествие Батые на Русь» и выполните задания 10–12.



10

Укажите год(ы), к которому(ым) относятся события, обозначенные на схеме стрелками.

1 2 3 4

1) 1223 г.

2) 1236–1238 гг.

3) 1239–1242 гг.

4) 1257–1259 гг.

**11** Укажите цифру, которой обозначен город, названный противниками Руси «злым городом».

① ② ③ ④ ⑤

**12** Укажите название реки, на которой произошла битва, обозначенная на схеме цифрой «1».

Ответ: \_\_\_\_\_.

**13** Запишите термин, о котором идёт речь.  
Грамота, письменный указ хана Золотой Орды.

Ответ: \_\_\_\_\_.

**14** Прочитайте отрывок из сочинения историка и впишите пропущенное имя.

\_\_\_\_\_ недаром жил в Орде: он не только оправдался в обвинениях Михайловых, но умел сблизиться с семейством хана и женился на сестре его Кончаке. Ханский зять возвратился в Россию... и начал войну с Михаилом. Последний разбил его в 40 верстах от Твери, в селе Бортенева, взял в плен его жену, брата Бориса, многих князей и бояр... Жена умерла в Твери в плену: пронёсся слух, что её отравили.

**15** Укажите князя, пропущенного в схеме.



Ответ: \_\_\_\_\_.

**ЗАПОЛНИТЕ ТАБЛИЦУ ОТВЕТОВ**

Задание	1	2	3	4	5	6	7	8	9	10	11

**Задание 12** \_\_\_\_\_

**Задание 13** \_\_\_\_\_

**Задание 14** \_\_\_\_\_

**Задание 15** \_\_\_\_\_



**ВАРИАНТ 2**
**1** Кто является родоначальником московских князей?

- |                 |                         |
|-----------------|-------------------------|
| 1) Семён Гордый | 3) Дмитрий Донской      |
| 2) Иван Калита  | 4) Даниил Александрович |

**2** Установите соответствие между событиями и годами.

**СОБЫТИЯ**

- 1) начало княжения в Москве Ивана Калиты
- 2) взятие Киева войском хана Батыя
- 3) Грюнвальдская битва

**ГОДЫ**

- А) 1240 г.
- Б) 1325 г.
- В) 1389 г.
- Г) 1410 г.

1	
2	
3	

Запишите буквы, соответствующие выбранным ответам.

**3** Прочитайте отрывок из литературного произведения и укажите князя, о котором идёт речь.

И вот какой обычай был у хана Батыя: когда приедет кто-нибудь на поклон к ним, то не велели сразу приводить такого к себе, но приказано было волхвам, чтобы шёл он сначала через огонь и поклонился кусту и идолам. А из всех даров, которые привозили с собой для царя, часть брали волхвы и бросали сначала в огонь, а уже потом к царю допускали и самих пришедших, и дары...

Один из вельмож Батыя, приехав к князю, сказал ему: «Так говорит царь: «Как посмел повелением моим пренебречь — почему богам моим не поклонился? Теперь одно из двух выбирай: или богам моим поклонись и тогда останешься жив и получишь княжение, или же, если не поклонись богам моим, то злой смертью умрёшь». Тогда ответил князь: «Тебе, царь, кланяюсь, потому что Бог поручил тебе царствовать на этом свете. А тому, чему велишь поклониться, — не поклонюсь».

- |                         |                        |
|-------------------------|------------------------|
| 1) Александр Невский    | 3) Михаил Черниговский |
| 2) Ярослав Всеволодович | 4) Юрий Всеволодович   |

**4** Установите соответствие между событиями и участниками этих событий.

**СОБЫТИЯ**

- 1) антиордынское восстание в Твери
- 2) оборона Владимира во время Батыева нашествия
- 3) Куликовская битва

**УЧАСТНИКИ**

- А) Пётр Ослядюкович
- Б) Владимир Андреевич
- В) воевода Дмитр
- Г) Александр Михайлович

1	
2	
3	

Запишите буквы, соответствующие выбранным ответам.

- 5** Что из перечисленного явилось одним из итогов победы русского войска на Куликовом поле в 1380 г.?
- 1) усиление позиций Москвы как центра объединения русских земель
  - 2) перенесение резиденции митрополита из Владимира в Москву
  - 3) освобождение русских земель от ордынского владычества
  - 4) получение московским князем права сбора дани в Орду со всех русских земель

1 2 3 4

- 6** Какое из перечисленных произведений посвящено антиордынскому восстанию в Твери?

- 1) «Житие Александра Невского»
- 2) «Слово о законе и благодати»
- 3) песня «О Щелкане Дудентьевиче»
- 4) «Житие Михаила Тверского»

1 2 3 4

- 7** Рассмотрите изображение и укажите, какое суждение о данном памятнике архитектуры является верным.



- 1) Данный памятник архитектуры находится во Владимире.
- 2) Данный памятник архитектуры создан в XIII в.
- 3) На фасадах здания отсутствуют декоративные элементы.
- 4) Данный памятник архитектуры создан в период ордынского владычества на Руси.

1 2 3 4

- 8** Какие из перечисленных городов в XIV в. вошли в состав Великого княжества Литовского?

- 1) Тула
- 2) Рязань
- 3) Чернигов
- 4) Тверь
- 5) Брянск

1 2 3 4 5

Выберите несколько правильных ответов.

9

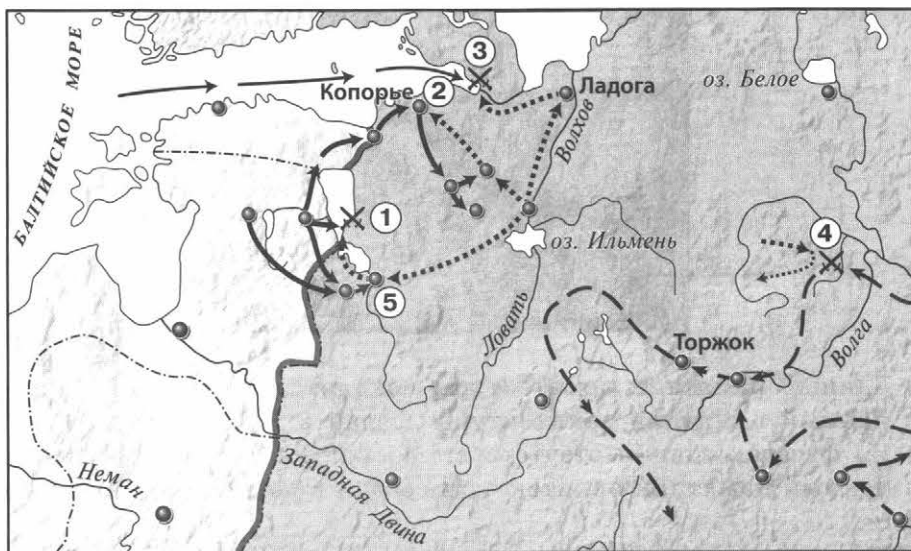
Прочитайте текст (каждое предложение пронумеровано), в котором нарушена последовательность предложений.

(1) Южнорусские князья собрались в Киев на совет и часть из них решила оказать помощь половцам, встретив врага на чужой земле, не на своей. (2) Изначально ход битвы разворачивался в сторону русских, но монголы нанесли главный удар по левому половецкому крылу. (3) Бегущая половецкая конница нарушила ряды русских дружинников, готовых к выступлению, которых тут же начали теснить монголы. (4) Битва, в которой русско-половецкое войско сразилось с монголами, началась 31 мая 1223 г. (5) Половецкий хан Котьян Сутоевич обратился к своему зятю, галицкому князю Мстиславу Мстиславичу Удалому, и к другим русским князьям, прося у них помощи против нового грозного врага. (6) Кочевники, не выдержав мощного натиска, начали беспорядочно отступать. (7) В 1222 г. монгольское войско вторглось с Северного Кавказа в половецкие степи.

1 2 3 4 5 6 7

Запишите правильную последовательность предложений.

Рассмотрите карту «Борьба Руси с завоевателями» и выполните задания 10–12.



10

Укажите год, к которому относится часть похода, обозначенная на схеме пунктирными стрелками → .

1 2 3 4

- 1) 1223 г.  
2) 1238 г.

- 3) 1240 г.  
4) 1242 г.

11

Какой цифрой обозначено место сражения, в котором противником русского войска были шведы?

1 2 3 4 5

**12** Напишите название города, обозначенного на схеме цифрой «5».

Ответ: \_\_\_\_\_.

**13** Запишите термин, о котором идёт речь.

Объединение двух монархических государств под властью одного монарха.

Ответ: \_\_\_\_\_.

**14** Прочитайте отрывок из сочинения историка и впишите термин, дважды пропущенный в тексте.

Своё государство Чингисхан разделил на четыре части (которые назывались \_\_\_\_\_) между четырьмя сыновьями. В \_\_\_\_\_ его старшего сына Джучи вошли Западная Сибирь, Кипчакская степь и Хорезм. Джучи умер ещё при жизни отца. Его наследником был признан второй сын Бату, который возглавил общемонгольский поход на запад, в ходе которого были покорены Волжская Булгария, Половецкая степь, русские княжества и некоторые другие страны Восточной Европы.

Ответ: \_\_\_\_\_.

**15** Запишите имя, пропущенное в схеме.



Ответ: \_\_\_\_\_.

**ЗАПОЛНИТЕ ТАБЛИЦУ ОТВЕТОВ**

Задание	1	2	3	4	5	6	7	8	9	10	11

Задание 12 \_\_\_\_\_

Задание 13 \_\_\_\_\_

Задание 14 \_\_\_\_\_

Задание 15 \_\_\_\_\_





**ПРОВЕРОЧНАЯ РАБОТА №2****ВАРИАНТ 1**

- 1** Приведите любые три факта, которые можно использовать для характеристики религиозных отношений в Золотой Орде.

---



---



---

- 2** Существует точка зрения, что возвышению Москвы способствовала мудрая политика московских князей. Приведите не менее двух аргументов в подтверждение данной точки зрения.

---



---



---



---

- 3** Прочитайте отрывок из сочинения историка и выполните задания.

В русской части Литвы уния и в особенности принятие католичества официальными лицами не могли обойтись без протеста: русские с той поры, как Ягайло стал королём \_\_\_\_\_, захотели иметь своего особого князя, что заставило их сгруппироваться сначала вокруг Андрея Ольгердовича, попытка которого захватить власть, однако, окончилась неудачей. Тем не менее в Литве недовольствие против унии всё росло, чем и воспользовался сын Кейстута — Витовт. Заручившись союзниками, он вступил в борьбу с Ягайло, и тот в конце концов должен был уступить Литву Витовту и признать последнего князем литовским.

- Впишите название государства, пропущенное в тексте.

- Укажите обстоятельство, которым, по мнению автора, воспользовался Витовт в борьбе за титул великого князя литовского. Используя знания по истории, назовите битву, для победы в которой двоюродные братья, названные в отрывке, объединили свои силы.

---



---



---

■ Укажите одну причину добровольного перехода некоторых русских княжеств под власть Великого княжества Литовского. Укажите одно последствие этого перехода для развития культуры в Великом княжестве Литовском.

---

---

---

---

**4** Сравните борьбу русских земель против монголов и борьбу против завоевателей с Запада (шведов и рыцарей-крестоносцев) в XIII в. по линиям сравнения, указанным в таблице. На основании сравнения сделайте вывод.


Линии сравнения	Борьба против монголов в XIII в.	Борьба против завоевателей с Запада в XIII в.
Основные события		
Масштабы вторжения противника (русские княжества, земли, подвергшиеся вторжению, примерная численность противника)		
Военные приёмы, оружие, приспособления, используемые противником		
Результаты борьбы		

Вывод: \_\_\_\_\_

---

---

---



**ВАРИАНТ 2**

**1** В чём проявлялась зависимость Руси от Золотой Орды? Укажите не менее трёх проявлений.

---

---

---

---

---

---

**2** Существует точка зрения, что присоединение западных и юго-западных русских земель к Литве и создание сильного Литовско-Русского государства имели положительное значение для народов, проживавших на территории этого государства. Приведите не менее двух аргументов в подтверждение данной точки зрения.

---

---

---

---

---

---

**3** Прочитайте отрывок из сочинения историка и выполните задания.

Монголы вступили в Новгородскую область: великая республика трепетала; но обширные леса и разлив рек остановили Батю: губительная волна достигла Игнатиева креста, в ста верстах от Новгорода, потом отхлынула на юго-восток. На возвратном пути Батый был задержан семь недель у небольшого города \_\_\_\_\_, жители которого перебили 4 тысячи неприятелей; поэтому монголы назвали его злым городом. Наконец \_\_\_\_\_ был взят, жители истреблены, а малолетний князь Василий «утоплен в крови».

■ Укажите название города, дважды пропущенное в тексте.

---

■ В чём, по мнению автора, заключаются причины отказа монголов от похода на Новгород? Запишите ещё одну возможную причину, не указанную автором.

---

---

---

---

---

---

■ Какие причины привели к поражению Руси от врагов, борьба с которыми описана в данном отрывке? Укажите не менее двух причин.

---

---

---

---

**4** Сравните положение Московского княжества в периоды княжений Ивана Калиты и Дмитрия Донского по линиям сравнения, указанным в таблице. На основании сравнения сделайте вывод.

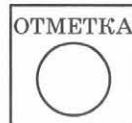
Линии сравнения	Период княжения Ивана Калиты	Период княжения Дмитрия Донского
Военные столкновения с Ордой (если были, назовите их)		
Примеры сотрудничества с Ордой		
Отношения с Русской православной церковью (приведите примеры)		
Результаты княжений с точки зрения усиления (ослабления) роли Москвы как центра объединения русских земель		

Вывод: \_\_\_\_\_

---

---

---



## ПРОВЕРОЧНАЯ РАБОТА №1

### ВАРИАНТ 1

**1** Кто был побеждён Тимуром?

- |             |           |
|-------------|-----------|
| 1) Мамай    | 3) Едигей |
| 2) Тохтамыш | 4) Ахмат  |

**2** Установите соответствие между событиями и годами.

СОБЫТИЯ

- 1) заключение Флорентийской унии
- 2) смерть Дмитрия Шемяки, окончание междоусобной войны в Московском государстве
- 3) битва русского войска с войском хана Улу-Мухаммеда под Суздалем

ГОДЫ

- А) 1439 г.
- Б) 1445 г.
- В) 1453 г.
- Г) 1485 г.

1	
2	
3	

Запишите буквы, соответствующие выбранным ответам.

**3** Прочитайте отрывок из сочинения историка и укажите категорию населения, о которой идёт речь.

Впервые такое военно-служилое сословие встречается около половины XV в. на Рязанской окраине, вооружённые копьями, рогатинами и саблями. А в XVI в. мы видим его распространённым уже по всем южнорусским окраинам... Они соединялись в отдельные ватаги или станицы... Управлялись они своими выборными атаманами и своим общинным кругом. Тут были люди разных состояний... беглые крестьяне и холопы, искавшие личной свободы.

- |                          |                       |
|--------------------------|-----------------------|
| 1) посадские люди        | 3) слуги под дворским |
| 2) черносошные крестьяне | 4) казаки             |

**4** Установите соответствие между событиями (процессами) и участниками этих событий (процессов).

СОБЫТИЯ (ПРОЦЕССЫ)

- 1) междоусобная война второй четверти XV в.
- 2) борьба боярских группировок в Новгороде
- 3) битва на р. Ведроши

УЧАСТНИКИ

- А) Марфа Борецкая
- Б) Даниил Щеня
- В) Софья Палеолог
- Г) князь Юрий Дмитриевич

1	
2	
3	

Запишите буквы, соответствующие выбранным ответам.

**5** Что стало одним из результатов издания Судебника Ивана III?

- 1) ограничение свободы крестьянских переходов
- 2) запрет кровной мести
- 3) появление категорий зависимого населения
- 4) установление самостоятельности (автокефалии) Русской православной церкви


1 2 3 4

**6** Какое из перечисленных произведений написано Афанасием Никитиным?

- 1) «Задонщина»
- 2) «Сказание о Мамаевом побоище»
- 3) «Хождение за три моря»
- 4) «Хронограф»

1 2 3 4

**7** Какая из представленных миниатюр посвящена стоянию на Угре?



1 2 3 4

8

Расположите исторические события (процессы) в хронологической последовательности.

- А) поход Едигея на Русь
- Б) появление на печати московского князя изображения двуглавого орла
- В) падение Византийской империи

1 2 3



Запишите получившуюся последовательность букв

9

Перед вами четыре предложения. Два из них являются положениями, которые требуется аргументировать. Другие два содержат факты, которые могут послужить аргументами для этих положений.

- 1) Василий I успешно продолжил политику, нацеленную на объединение русских земель вокруг Москвы.
- 2) В состав Московского государства вошла Тверь.
- 3) Иван III расширил границы Московского государства.
- 4) К Московскому государству было присоединено Нижегородское княжество.

Положение

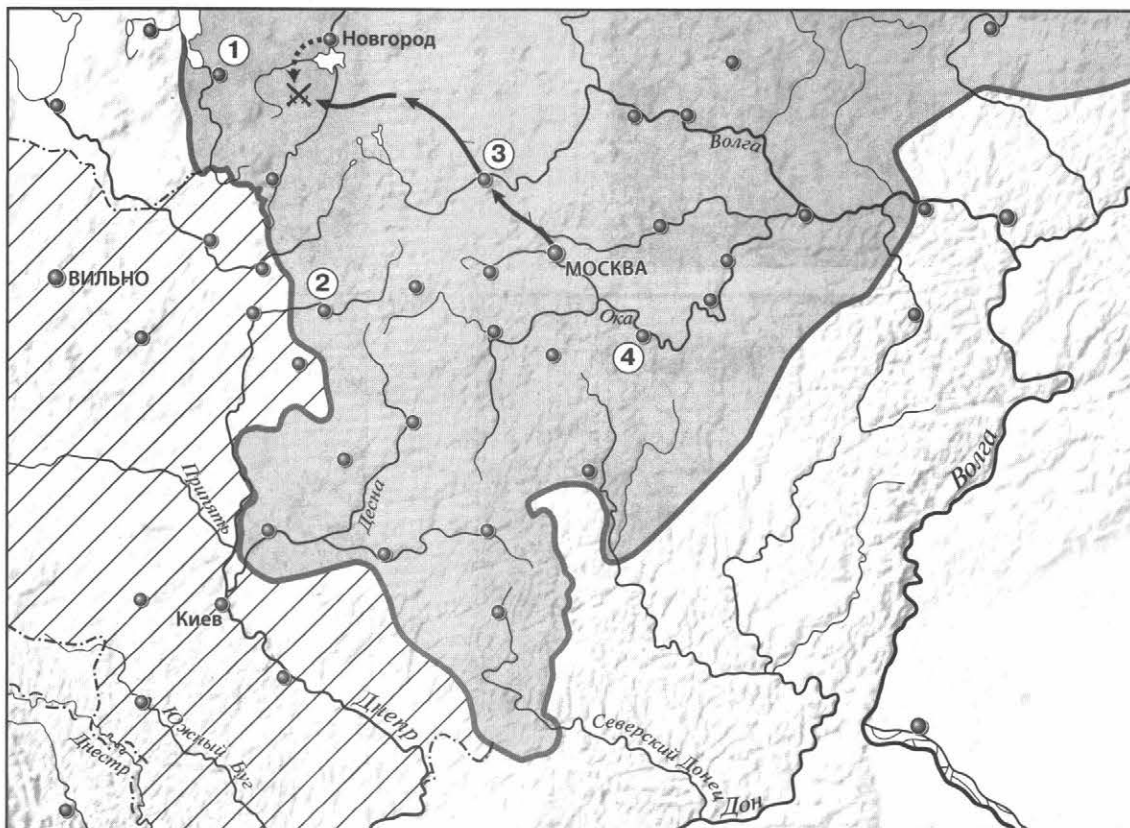
Факт

Положение

Факт

Подберите для каждого положения соответствующий факт. Номера соответствующих предложений запишите в таблицу.

Рассмотрите карту «Российское государство во второй половине XV — начале XVI в.» и выполните задания 10–12.



**10** Укажите князя, в период правления которого был совершён поход, обозначенный на карте стрелками.

- 1) Василий I
- 2) Василий II
- 3) Иван III
- 4) Василий III

① ② ③ ④

**11** Укажите цифру, которой обозначен город, присоединённый к Московскому княжеству позже, чем остальные города, обозначенные на схеме цифрами.

① ② ③ ④

**12** Напишите название государства, территория которого выделена штриховкой на карте.

Ответ: \_\_\_\_\_.

**13** Запишите термин, о котором идёт речь.

Система распределения высших должностей с учётом происхождения и служебного положения предков.

Ответ: \_\_\_\_\_.

**14** Прочитайте отрывок из сочинения историка и впишите имя, пропущенное в отрывке.

Вслед за Василием Тёмным, когда он вышел из казанского плена, приехал служить ему с отрядом... казанский царевич \_\_\_\_\_. Около половины XV в. ему отдан был Мещерский Городец на Оке с уездом, где среди мещеры и мордвы вёрст на 200 вокруг города испомещена была его дружина. С тех пор и самый город стал зваться именем царевича.

**ЗАПОЛНИТЕ ТАБЛИЦУ ОТВЕТОВ**

Задание	1	2	3	4	5	6	7	8	9	10	11

**Задание 12** \_\_\_\_\_

**Задание 13** \_\_\_\_\_

**Задание 14** \_\_\_\_\_





## ВАРИАНТ 2

1

Как называлась плата крестьян за проживание на земле при их уходе от землевладельцев в Юрьев день?

- 1) местничество
- 2) кормление
- 3) выход
- 4) пожилое

1 2 3 4

2

Установите соответствие между событиями и годами.

СОБЫТИЯ

- 1) битва на р. Шелони
- 2) поход Едигея на Русь
- 3) установление самостоятельности (автокефалии) Русской православной церкви

ГОДЫ

- А) 1408 г.
- Б) 1448 г.
- В) 1471 г.
- Г) 1478 г.

1  
2  
3

Запишите буквы, соответствующие выбранным ответам.

3

Прочитайте отрывок из сочинения историка и укажите имя, дважды пропущенное в тексте.

В Москве не приняли унии и прогнали Исидора. Несколько лет звание московского митрополита оставалось незанятым. В Киеве, после учреждения Витовтом отдельной митрополичьей кафедры, были свои митрополиты, но Москва не хотела знать их. Рязанский епископ \_\_\_\_\_, как уже наречённый русскими духовными митрополит, имел между ними главенствующее значение и влияние, и наконец в 1448 г. этот архиерей был возведён в сан митрополита собором русских владык помимо патриарха.

- 1) Сергий
- 2) Стефан
- 3) Иона
- 4) Пётр

1 2 3 4

4

Установите соответствие между событиями и участниками этих событий.

СОБЫТИЯ

- 1) разгром г. Ельца в 1395 г.
- 2) разгром Большой Орды в 1502 г.
- 3) битва под Суздалем

УЧАСТНИКИ

- А) Менгли-Гирей
- Б) Василий II
- В) Василий III
- Г) Тимур

1  
2  
3

Запишите буквы, соответствующие выбранным ответам.

**5** Что стало одним из последствий похода на Новгород войска Ивана III в 1477–1478 гг.?

- 1) роспуск Новгородского веча
- 2) формирование в Новгороде боярской группировки, выступавшей за союз с Литвой
- 3) учреждение в Новгороде республиканской формы правления
- 4) гибель Дмитрия Шемяки

① ② ③ ④

**6** Икона «Троица» была написана:

- 1) Феофаном Греком
- 2) Дионисием
- 3) Андреем Рублёвым
- 4) Марко Руффо

① ② ③ ④

**7** Какой из представленных памятников архитектуры был построен по проекту архитектора Аристотеля Фиораванти?

1)



2)



3)



4)



**8** Расположите исторические события (процессы) в хронологической последовательности.

- А) включение в состав Московского государства Смоленска
- Б) смерть литовского князя Витовта
- В) битва на р. Ведроши

① ② ③

Запишите получившуюся последовательность букв.

9

Перед вами четыре предложения. Два из них являются положениями, которые требуется аргументировать. Другие два содержат факты, которые могут послужить аргументами для этих положений.

- 1) В Константинополе находилась резиденция вселенского патриарха, считавшегося главой всех православных христиан мира.
- 2) Византийские делегаты подписали на церковном соборе Флорентийскую унию.
- 3) В начале XV в. центром православия была Византия.
- 4) Византия пошла на уступки в вопросах религии за помощь католических стран в борьбе с турками-османами.

Положение

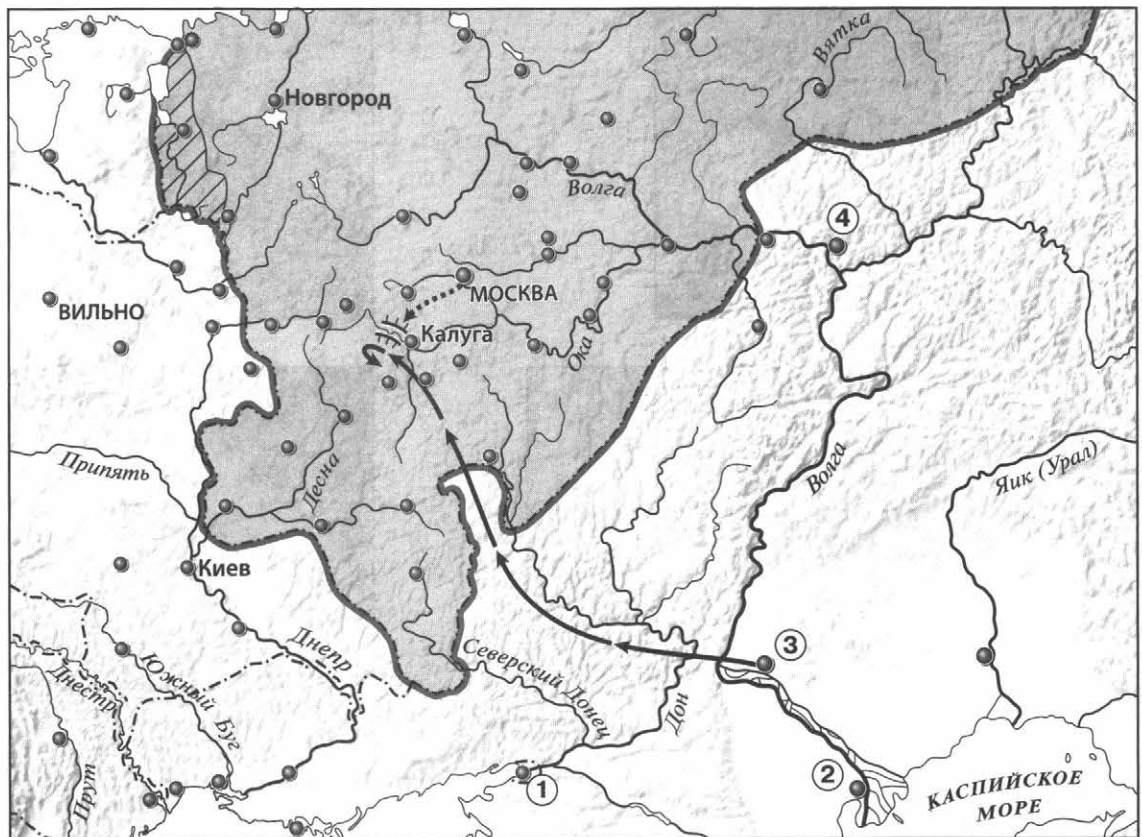
Факт

Положение

Факт

Подберите для каждого положения соответствующий факт. Номера соответствующих предложений запишите в таблицу.

Рассмотрите карту «Российское государство во второй половине XV — начале XVI в.» и выполните задания 10–12.



10

Укажите год, когда в состав Московского княжества вошла территория, выделенная штриховкой на карте.

1 2 3 4

- 1) 1478 г.
- 2) 1485 г.

- 3) 1510 г.
- 4) 1521 г.

**11** Укажите цифру, которой обозначен город, ставший столицей государства, образованного в 1438 г.

① ② ③ ④

**12** Напишите имя военачальника, поход которого обозначен на схеме сплошными чёрными стрелками → .

Ответ: \_\_\_\_\_.

**13** Запишите термин, о котором идёт речь.  
Золотой шар с короной или крестом, символ власти монарха.

Ответ: \_\_\_\_\_.

**14** Прочитайте отрывок из сочинения историка и укажите имя, дважды пропущенное в тексте.

С Тверью дело кончилось ещё раньше и решительнее: превращённый договором в московского подручника, князь Михаил Борисович очень недолго вытерпел в таком положении и, по традиции, обратился за помощью в Литву, к \_\_\_\_\_. Но дело тверского князя имело настолько безнадёжный вид, что король не нашёл для себя выгодным ссориться из-за него с Москвой и отказал в своей помощи. Тверь была взята московской ратью, и князь Михаил Борисович искал теперь у \_\_\_\_\_ уже не поддержки, как политический противник Москвы, а убежища, как эмигрант.

Ответ: \_\_\_\_\_.

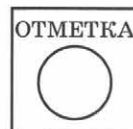
### ЗАПОЛНИТЕ ТАБЛИЦУ ОТВЕТОВ

Задание	1	2	3	4	5	6	7	8	9	10	11

Задание 12 \_\_\_\_\_

Задание 13 \_\_\_\_\_

Задание 14 \_\_\_\_\_



**ПРОВЕРОЧНАЯ РАБОТА №2****ВАРИАНТ 1**

- 1** Укажите любые три символа великокняжеской власти, существовавшие в период правления Ивана III.

---

---

---

- 2** Существует точка зрения, что экономическое и политическое развитие Руси в XV в. демонстрировало необходимость объединения всех русских земель в единое Русское государство. Приведите два аргумента в подтверждение данной точки зрения.

---

---

---

---

---

---

- 3** Прочитайте отрывок из сочинения историка и выполните задания.

Оставив вправо от себя верховья Оки, Ахмат пришёл на р. Угру, в пограничные между Москвой и Литвой места. Но и здесь он не получил никакой помощи от Литвы, а Москва встретила его сильной ратью. На Угре и стали друг против друга Ахмат и Иван III — оба в нерешимости начать прямой бой. Иван III велел готовить столицу к осаде, отправил свою жену Софью из Москвы на север и сам приезжал к Москве, боясь как татар, так и своих родных братьев. Они были с ним в ссоре и внушали ему подозрение в том, что изменят в решительную минуту. Осмотрительность Ивана и медлительность его показали народу трусостью, и простые люди, готовясь в Москве к осаде, открыто негодовали на Ивана.

- Укажите год, когда произошли описываемые события.

---

- Какие меры, принятые Иваном III, свидетельствуют о том, что он не был полностью уверен в победе в случае сражения с врагом? Укажите две меры. Какое внутривластное обстоятельство представляло опасность для Ивана III?

---

---

■ Чем закончилось противостояние, описываемое в отрывке? Укажите значение этого события для внешнеполитического положения Российского государства.

---



---



---

**4** Сравните положение бояр и помещиков в XV в. по линиям, указанным в таблице. На основании сравнения сделайте вывод.

Линии сравнения	Бояре	Помещики
Как называлось земельное владение?		
Была ли служба князю условием владения землёй?		
Можно ли было продать, подарить, передать по наследству свою землю?		
Что можно сказать о преданности князю, готовности служить ему?		

Вывод: \_\_\_\_\_

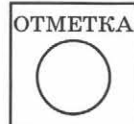
---



---



---



**ВАРИАНТ 2**

**1** Назовите любые три государства, выделившиеся из состава Золотой Орды в XV в.

---

---

---

**2** Существует точка зрения, что развитие общественной мысли в XV — начале XVI в. способствовало росту авторитета Московского государства и великокняжеской власти. Приведите два аргумента в подтверждение данной точки зрения.

---

---

---

---

---

---

**3** Прочитайте отрывок из сочинения историка и выполните задания.

После взятия Царьграда турками брат убитого императора Константина Палеолога, по имени Фома, бежал с семейством в Италию и там умер, оставив детей на попечение папы. Дети были воспитаны в духе Флорентийской унии

\_\_\_\_\_ г., и папа имел основания надеяться, что, выдав Софью за московского князя, он получит возможность ввести унию в Москве. Иван III согласился начать сватовство и отправил в Италию послов за невестой. В 1472 г. она приехала в Москву, и брак состоялся. Однако надеждам папы не было суждено осуществиться: папский легат, сопровождавший Софью, не имел никакого успеха в Москве; сама Софья ничем не содействовала торжеству унии, и, таким образом, брак московского князя не повлёк за собой никаких видимых последствий для Европы и католичества.

■ Впишите год, пропущенный в тексте.

■ Какие надежды связывал римский папа с браком, о котором идёт речь в отрывке? Почему он имел основания для подобных надежд? Оправдались ли надежды папы?

---

---

---

---

---

---

■ Какие изменения в политической жизни и культуре страны связаны с этим браком? Назовите не менее двух изменений.

---

---

---

---

**4** Сравните политику Василия II и Ивана III по линиям, указанным в таблице. На основании сравнения сделайте вывод.

Линии сравнения	Василий II	Иван III
Лишался ли московского престола в период княжения?		
Политика по объединению русских земель вокруг Москвы (назвать присоединённые, зависимые княжества и земли)		
Политика по отношению к Орде, результаты политики		
Законодательная деятельность		

Вывод: \_\_\_\_\_

---

---

---





## ПРОВЕРОЧНАЯ РАБОТА №1

## ВАРИАНТ 1

**1** Единый для всей страны срок перехода крестьян (неделя до Юрьева дня и неделя после) был введён:

- 1) по Правде Ярослава
- 2) по Уставу Владимира Всеволодовича
- 3) по Судебнику Ивана III
- 4) по Правде Ярославичей

1 2 3 4

**2** Установите соответствие между событиями и годами.

## СОБЫТИЯ

- 1) захват Киева Юрием Долгоруким
- 2) заключение Флорентийской унии
- 3) разгром печенегов под Киевом

## ГОДЫ

- А) 1036 г.
- Б) 1155 г.
- В) 1325 г.
- Г) 1439 г.

1  
2  
3

Запишите буквы, соответствующие выбранным ответам.

**3** Прочитайте отрывок из сочинения историка и укажите великого князя, о котором идёт речь.

Пользуясь случившимся в Твери убийством ордынского посла Чолхана (Щелкана), этот князь поспешил в Орду, возвратился с 50 000 человек ордынского войска и опустошил огнём и мечом всю Тверскую землю. В следующем году он получил от хана ярлык на великое княжение.

- 1) Даниил Александрович
- 2) Юрий Данилович
- 3) Иван Калита
- 4) Дмитрий Донской

1 2 3 4

**4** Установите соответствие между событиями и участниками этих событий.

## СОБЫТИЯ

- 1) битва на р. Калке
- 2) разгром Хазарского каганата
- 3) битва на р. Шелони

## УЧАСТНИКИ

- А) князь Святослав Игоревич
- Б) Даниил Холмский
- В) князь Даниил Романович
- Г) Евпатий Коловрат

1  
2  
3

Запишите буквы, соответствующие выбранным ответам.

**5** Что было одной из причин раздробленности Древнерусского государства?

- 1) «оседание» княжеской дружины на землю
- 2) призвание варягов
- 3) нашествие немецких рыцарей на Русь
- 4) Батыево нашествие на Русь

1 2 3 4

**6** Какое из перечисленных литературных произведений было создано раньше остальных?

- 1) «Задонщина»
- 2) «Повесть о разорении Рязани Батыем»
- 3) «Слово о полку Игореве»
- 4) «Житие Сергия Радонежского»

1 2 3 4

**7** Рассмотрите изображение и укажите, какие суждения о данном изображении являются верными.



- 1) Данная марка выпущена к 600-летию со дня смерти изображённого на ней князя.
- 2) Изображение в левой части марки символизирует результаты Ледового побоища.
- 3) Князь, изображённый на марке, участвовал в битве на р. Сити.
- 4) Князь, изображённый на марке, подавил выступления новгородцев против переписи населения монголами.
- 5) Князь, изображённый на марке, был дядей родоначальника московской княжеской династии.

1 2 3 4 5

Выберите несколько правильных ответов.

**8** Расположите исторические события в хронологической последовательности.

- А) создание Правды Ярослава
- Б) смерть Мстислава Великого
- В) битва на р. Воже

1 2 3

Запишите получившуюся последовательность букв.

9

Перед вами четыре предложения. Два из них являются положениями, которые требуется аргументировать. Другие два содержат факты, которые могут послужить аргументами для этих положений.

- 1) Крещение Руси способствовало развитию грамотности.
- 2) Материалом для письма служила специально выделанная телячья кожа.
- 3) На Русь приезжали переводчики церковных книг из Византии, Болгарии.
- 4) Первые русские книги были очень дорогими.

Положение

Факт

Положение

Факт

Подберите для каждого положения соответствующий факт. Номера соответствующих предложений запишите в таблицу.

10

Прочитайте текст, в котором каждое предложение пронумеровано. Данный текст содержит две ошибки. Фрагменты текста, в которых, возможно, сделаны ошибки, подчёркнуты и выделены полужирным шрифтом.

- 1) Своего расцвета Литовское государство достигло при князе Гедимине.
- 2) При нём столицей государства стал основанный им **город Вильно**.
- 3) Гедимин, оставаясь язычником, не ущемлял права православной церкви.
- 4) После смерти Гедими́на Литовским государством правил его **сын** Ольгерд.
- 5) Во время княжения Ольгерда к Литовскому государству были присоединены **Полоцкая, Витебская, Минская и Брестская** земли.
- 6) После смерти Ольгерда в 1377 г. в Литовском княжестве начались новые усобицы, в результате которых у власти оказались сын Ольгерда **Казимир** и племянник Витовт.

1

2

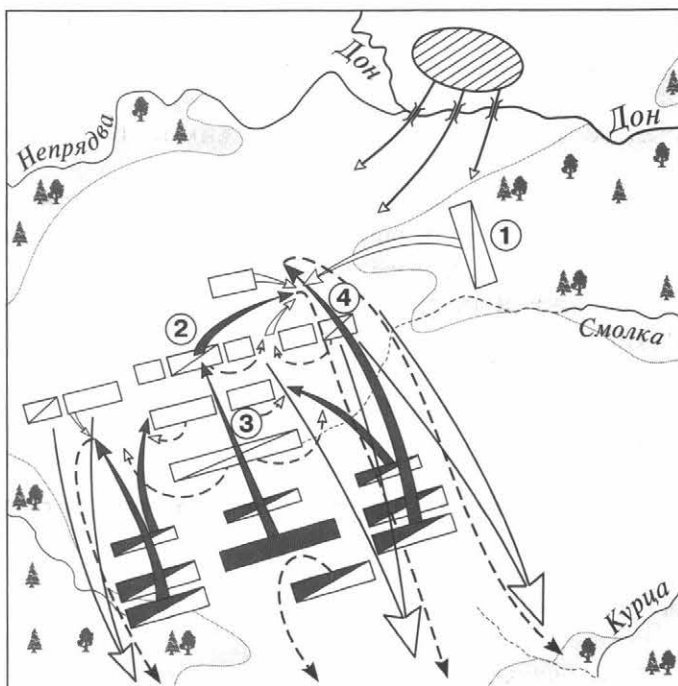
3

4

5

6

Рассмотрите схему и выполните задания 11–13.



**11** Укажите год, когда произошли события, которым посвящена данная схема.

① ② ③ ④

1) 1240 г.

3) 1410 г.

2) 1380 г.

4) 1480 г.

**12** Какой цифрой обозначен на схеме полк, одним из командиров которого был Владимир Андреевич Серпуховской?

① ② ③ ④

**13** Напишите имя командующего войсками противника русских войск в данной битве.

Ответ: \_\_\_\_\_.

**14** Запишите термин, о котором идёт речь.

Земельное владение, даваемое за военную или государственную службу без права продажи, обмена, наследования.

Ответ: \_\_\_\_\_.

**15** Укажите слово, пропущенное в данной схеме.



Ответ: \_\_\_\_\_.

### ЗАПОЛНИТЕ ТАБЛИЦУ ОТВЕТОВ

Задание	1	2	3	4	5	6	7	8	9	10	11	12

**Задание 13** \_\_\_\_\_

**Задание 14** \_\_\_\_\_

**Задание 15** \_\_\_\_\_



## ВАРИАНТ 2

**1** Служилые люди, получавшие в пользование землю на условиях несения государственной службы, — это:

- 1) бояре
- 2) закупы
- 3) смерды
- 4) помещики

1 2 3 4

**2** Установите соответствие между событиями и годами.

СОБЫТИЯ

- 1) Грюнвальдская битва
- 2) антиордынское восстание в Твери
- 3) съезд князей в Любече

ГОДЫ

- А) 1054 г.
- Б) 1097 г.
- В) 1327 г.
- Г) 1410 г.

1  
2  
3

Запишите буквы, соответствующие выбранным ответам.

**3** Прочитайте отрывок из сочинения историка и укажите имя, пропущенное в тексте.

Из таких изгнанников особенно заметен в это время был хан \_\_\_\_\_. Разорив русские волости по Оке, он пошёл на Волгу и устроил себе город Казань на р. Казанке, близ впадения её в Волгу. Основав там особое Казанское царство, он оттуда начал громить Русь, доходя в своих набегах до самой Москвы. Великий князь Василий Васильевич вышел против него, но под Суздалем был разбит и взят в плен.

- 1) Едигей
- 2) Улу-Мухаммед
- 3) Менгли-Гирей
- 4) Тимур

1 2 3 4

**4** Установите соответствие между событиями и участниками этих событий.

СОБЫТИЯ

- 1) битва на р. Ведроши
- 2) Невская битва
- 3) неудачный поход на Византию

УЧАСТНИКИ

- А) киевский князь Игорь
- Б) Даниил Щеня
- В) Андрей Боголюбский
- Г) Гаврило Олексич

1  
2  
3

Запишите буквы, соответствующие выбранным ответам.

**5** Что стало одним из последствий Крещения Руси?

- 1) появление на Руси первых христиан
- 2) укрепление культурных связей с Византией
- 3) политическая раздробленность Руси
- 4) появление славянской азбуки

1 2 3 4

**6** Какое из перечисленных литературных произведений было создано раньше остальных?

- 1) «Слово о полку Игореве»
- 2) «Слово о законе и благодати»
- 3) «Моление Даниила Заточника»
- 4) «Житие Михаила Тверского»

1 2 3 4

**7** Рассмотрите изображение и укажите, какие суждения о данном изображении являются верными.



- 1) Данная марка выпущена к 600-летию со дня смерти изображённого на ней князя.
- 2) По приказу князя, изображённого на марке, в Москве была построена деревянная крепость.
- 3) Князь, изображённый на марке, умер в Киеве.
- 4) Князь, изображённый на марке, является родоначальником династии московских князей.
- 5) Князь, изображённый на марке, был сыном Ярослава Мудрого.

1 2 3 4 5

Выберите несколько правильных ответов.

**8** Расположите исторические события в хронологической последовательности.

- А) присоединение Новгородской земли к Московскому государству
- Б) битва на р. Калке
- В) разорение Москвы ханом Тохтамышем

1 2 3

Запишите получившуюся последовательность букв.

**9** Перед вами четыре предложения. Два из них являются положениями, которые требуется аргументировать. Другие два содержат факты, которые могут послужить аргументами для этих положений.

- 1) На славян оказали влияние ираноязычные племена (скифы, сарматы).
- 2) На славян повлияло соседство с финно-угорскими племенами.
- 3) В славянский язык вошли и сохранились такие слова, как «хата», «собака», «топор».
- 4) В славянском языке закрепились названия: Ухта, Вологда, Вычегда, Кинешма, Клязьма, Селигер, Ильмень.

Положение	Факт

Положение	Факт

Подберите для каждого положения соответствующий факт. Номера соответствующих предложений запишите в таблицу.

**10** Прочитайте текст, в котором каждое предложение пронумеровано. Данный текст содержит две ошибки. Фрагменты текста, в которых, возможно, сделаны ошибки, подчёркнуты и выделены полужирным шрифтом.

(1) В 1359 г. на московский престол взошел девятилетний Дмитрий Иванович. (2) Главой московского правительства фактически стал митрополит Алексей. (3) И в этом же году Золотая Орда распалась на две части, границей между которыми стала Волга. (4) В западной части Золотой Орды верх взял темник Мамай, который не был потомком Чингисхана, а потому не мог претендовать на ханский трон. (5) В 1368 г. литовский князь Гедимин повёл на Москву сильную литовско-русскую рать, в составе которой были и полоцкие полки. (6) Новый дубовый Кремль выдержал осаду неприятеля, и раздосадованный литовский князь разгромил и пожёг московский посад.

1 2 3 4 5 6

Рассмотрите схему на с. 71 и выполните задания 11–13.

**11** Укажите год, когда произошло событие, которому посвящена схема.

1 2 3 4

1) 1240 г.

3) 1380 г.

2) 1242 г.

4) 1480 г.

**12** Каким знаком на схеме обозначены тяжеловооружённые рыцари противника русских войск?

1) 

2) 

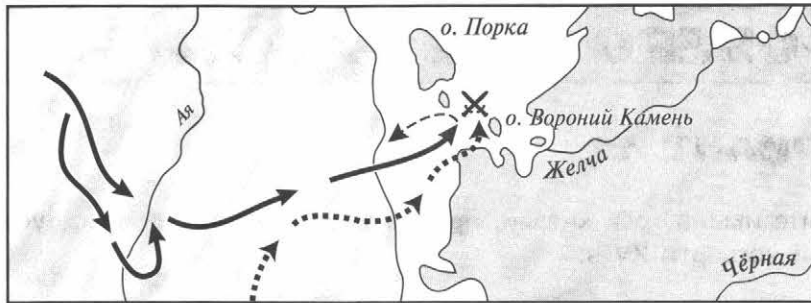
3) 

4) 

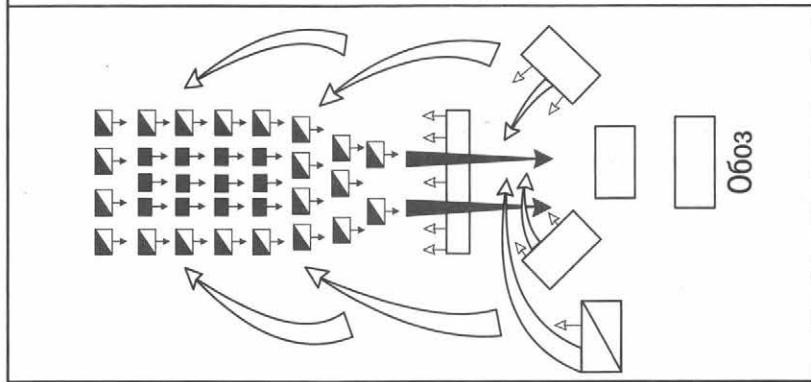
1 2 3 4

**13** Укажите название озера, обозначенного на схеме.

Ответ: \_\_\_\_\_.



ПОСТРОЕНИЕ БОЕВЫХ ПОРЯДКОВ И ХОД БОЯ

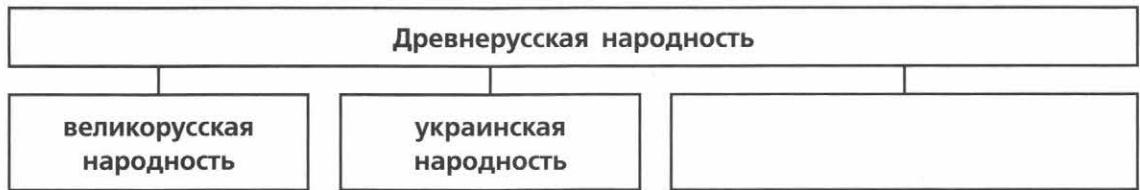


**14** Запишите термин, о котором идёт речь.

Название различных поселений, население которых временно освобождалось от государственных повинностей.

Ответ: \_\_\_\_\_.

**15** Укажите словосочетание, пропущенное в данной схеме.



Ответ: \_\_\_\_\_.

**ЗАПОЛНИТЕ ТАБЛИЦУ ОТВЕТОВ**

Задание	1	2	3	4	5	6	7	8	9	10	11	12

Задание 13 \_\_\_\_\_

Задание 14 \_\_\_\_\_

Задание 15 \_\_\_\_\_





**ПРОВЕРОЧНАЯ РАБОТА №2****ВАРИАНТ 1**

- 1** Укажите имена трёх князей, принимавших участие в междоусобной войне второй четверти XV в.

---



---



---

- 2** Существует точка зрения, что политическая раздробленность Руси имела не только отрицательные, но и положительные последствия. Приведите два аргумента в подтверждение данной точки зрения.

---



---



---



---

- 3** Прочитайте отрывок из летописи и выполните задания.

Пришли Святополк, и Владимир, и Давыд Игоревич, и Василько Ростиславич, и Давыд Святославич, и брат его Олег... и говорили друг другу: «Зачем губим Русскую землю, сами между собой устраивая распри? А половцы землю нашу несут розно и рады, что между нами идут войны. Да отныне объединимся единым сердцем и будем блюсти Русскую землю, и пусть каждый владеет отчиной своей: Святополк — Киевом, Изяславовой отчиной, Владимир — Всеволодовой, Давыд, и Олег, и Ярослав — Святославовой, и те, кому Всеволод роздал города: Давыду — Владимир, Ростиславичам же: Володарю — Перемышль, Васильку — Теребовль».

- Назовите событие, о котором идёт речь в данном отрывке. Укажите год, когда оно произошло.

---

- Укажите два решения, принятые в ходе описываемого события.

---



---

- Назовите инициатора проведения описываемого события. Укажите один факт, указывающий на его стремление выполнить принятые решения. Укажите его вклад в развитие древнерусского законодательства.

---

**4** Сравните Древнерусское государство в XI в. и Московское государство в начале XVI в. по линиям, указанным в таблице. На основании сравнения сделайте вывод.

Линии сравнения	Древнерусское государство в XI в.	Московское государство в начале XVI в.
Существование зависимости от других государств		
Наличие общегосударственного свода законов		
Принцип передачи власти князьями		
Кто составлял основу войска?		

Вывод: \_\_\_\_\_

\_\_\_\_\_

\_\_\_\_\_

\_\_\_\_\_

ОТМЕТКА



## ВАРИАНТ 2

- 1** Укажите имена киевских князей, правивших Древнерусским государством в X, XI и XII вв. (по одному имени для каждого века).

X в. — \_\_\_\_\_

XI в. — \_\_\_\_\_

XII в. — \_\_\_\_\_

- 2** Существует точка зрения, что Русская православная церковь сыграла значительную роль в усилении Московского княжества. Приведите два аргумента в подтверждение данной точки зрения.

---



---



---



---

- 3** Прочитайте отрывок из сочинения историка и выполните задания.

Новгородцы бодро вышли навстречу, но на берегах Шелони потерпели поражение от передовой московской рати, которую начальствовал князь Даниил Холмский. При встрече с москвитянами конный архиепископский полк отказался от битвы по тайному наказу архиепископа Феофила. Вообще разбогатевшие новгородские граждане не отличались уже ратным духом и не могли устоять в открытом поле против опытных в военном деле московских и монгольских отрядов. В числе шелонских пленников находился один из сыновей Марфы Борецкой, которого Иоанн велел казнить вместе с тремя другими боярами. Между тем \_\_\_\_\_ не присылал никакой помощи, в самом Новгороде поднялась партия московских приверженцев и стала одолевать враждебную ей сторону Борецких.

■ Укажите год, когда произошли описываемые события. Укажите короля, имя которого пропущено в тексте. \_\_\_\_\_

■ Каковы, по мнению автора, причины поражения новгородского войска в упомянутой в отрывке битве? Укажите две причины.

---



---



---

■ Укажите название формы правления в Новгороде в период описываемых событий. В чём проявлялось её существование в Новгороде? Укажите любые два проявления.

---



---

**4**

Сравните Куликовскую битву и Стояние на Угре по линиям, указанным в таблице. На основании сравнения сделайте вывод.

Линии сравнения	Куликовская битва	Стояние на Угре
Кто был противником?		
Каковы были потери русских войск?		
Кто победил?		
Значение события		

Вывод: \_\_\_\_\_

\_\_\_\_\_

\_\_\_\_\_

\_\_\_\_\_

ОТМЕТКА













# СОДЕРЖАНИЕ

Как работать с тетрадью .....	3
ГЛАВА I. Народы и государства на территории нашей страны в древности .....	4
ГЛАВА II. Русь в IX – первой половине XII в. ....	16
ГЛАВА III. Русь в середине XII – начале XIII в. ....	28
ГЛАВА IV. Русские земли в середине XIII–XIV в. ....	40
ГЛАВА V. Формирование единого Русского государства .....	52
Итоговые проверочные работы .....	64
Творческие задания .....	76

Учебное издание

Артасов Игорь Анатольевич

## ИСТОРИЯ РОССИИ

Контрольные работы

6 класс

Пособие для общеобразовательных организаций

Руководитель Центра «Сферы» *А.В. Сильянова*

Ответственный за выпуск *В.В. Перельгин*

Редактор *В.В. Перельгин*

Картографы *Р.С. Азизбаева, С.А. Минаева*

Художественный редактор *Ю.С. Асеева*

Компьютерная вёрстка *Ю.С. Асеевой*

Дизайн обложки *И.В. Низковской, О.Г. Ивановой*

Технический редактор *С.Н. Терехова*

Корректор *Т.Н. Матвеева*

Налоговая льгота — Общероссийский классификатор продукции ОК 005-93—953000.

Изд. лиц. Серия ИД № 05824 от 12.09.01. Подписано в печать с оригинал-макета 21.07.15.

Формат 84×108<sup>1</sup>/<sub>16</sub>. Бумага офсетная. Гарнитура PragmaticaC. Печать офсетная.

Уч.-изд. л. 3,13. Тираж 5000 экз. Заказ № 41594 (К-См).

Акционерное общество «Издательство «Просвещение».

127521, Москва, 3-й проезд Марьиной рощи, 41.

Отпечатано по заказу ОАО «ПолиграфТрейд» в филиале «Смоленский полиграфический комбинат»

ОАО «Издательство «Высшая школа». 214020, Смоленск, ул. Смольянинова, 1.

Тел.: +7 (4812) 31-11-96. Факс: +7 (4812) 31-31-70. E-mail: [spk@smolpk.ru](mailto:spk@smolpk.ru) <http://www.smolpk.ru>